

ورقة عمل الوحدة 6 الدرس 2 المركبات والتغيرات الكيميائية

(المركبات)





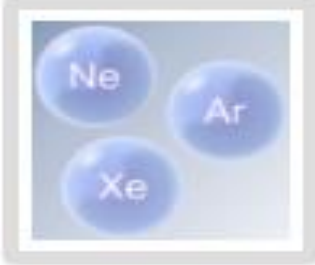


الصف : الخامس

الاسم:

اعداد : أمحمود ناهض

المادة : العلوم

صل الشكل الذي يمثل مركبا بكلمة مركب ؟



مركب