

## اختبار الوحدة الأولى للصف الخامس

درجتي

الاسم: \_\_\_\_\_  
الخامس: \_\_\_\_\_

### السؤال الأول

1. القيمة المكانية للعدد الذي تحته خط 3,451,012

- a. الآلاف      b. عشرات الآلاف      c. مئات الآلاف      d. الملايين

2. ثلاثة واربعون مليون و خمسمئة وعشرون الفا و ستمئة و واحد

- a. 34,520,601      b. 43,520,601      c. 4,352,601      d. 4,352,061

3. 456,890      4,560,890


- a. <      b. >      c. =      d. غير ذلك

4. الكسر  $\frac{48}{100}$  في الصورة العشرية والنسبة المئوية:


- a. 0.48 ، %48      b. 0.048 ، %48      c. 4.8 ، %48      d. 0.48 ، %4.8

5. اي مما يلي يمثل 0.5

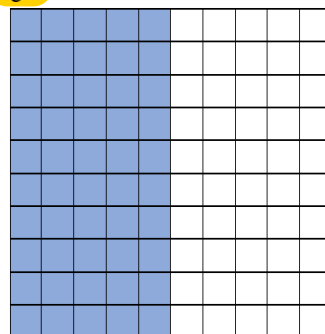
a



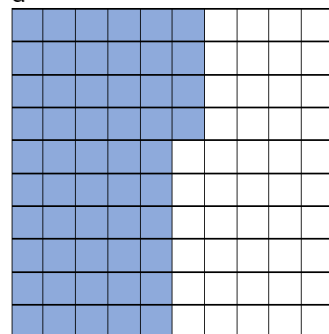
b



c



d



6.  $100 \times 5 + 1 \times 3 + 2 \times \frac{1}{10} + 5 \times \frac{1}{100} + 7 \times \frac{1}{1000}$

- a. 53.207      b. 503.207      c. 503.257      d. 53.257

7. سبعة وعشرون واربعة عشر جزء من الف

e. 27.14

f. 27.014

g. 27.104

h. 7.20

8. الرقم في منزلة الجزء من ألف 3,145.809

i. 8

j. 0

k. 9

l. 3

9. أي مما يلي صحيح

..... > 34.45

m. 34.0045

n. 34.55

o. 34.045

p. 34.44

10.

اصغر عدد في الاعداد 12 ، 12.01 ، 10.19 ، 9.756 ، 11

q. 11

r. 12

s. 10.19

t. 9.756

السؤال الثاني

حل المسائل



23. متان وخمسون مئيلتزا يساوي  $\frac{250}{1,000}$  لتر. اكتب هذا الكسر على هيئة عدد عشري.



24. ينتقل عبيد من سبرينغفيلد التي يوجد بها 482,653 شخصًا إلى غرينفيلد التي يوجد بها 362,987 شخصًا. هل ينتقل إلى مدينة يوجد بها عدد أكبر أم أصغر من السكان؟ اشرح.



25. يبلغ طول المحيط الهادي مئة وستة وستين مليون ومائتين وواحد وأربعين ألفًا وسبعمئة وأربعة وخمسين كيلومترًا مربعًا. كم عدد الكيلو مترات المربعة في المحيط الهادي بالصيغة القياسية؟

