



# نشاط عملي

استخدام القيمة المكانية للقسمة

الدرس 3



الضرب الأساسي  
يوجد طار القيمة على الأعداد

## بناء العدد

أوجد ناتج قسمة  $39 \div 3$

1

قسّم نموذجًا للقسمة 39.

استخدم مكعبات عد العشرات لتوضيح 3 عشرات و 9 أضعاف حتى توضح العدد 39.

2

اقسم العشرات.

القسمة عليه هو 3. إذ اقسّم العشرات إلى 3 مجموعات متساوية. يوجد 1 في منزلة العشرات في كل مجموعة.

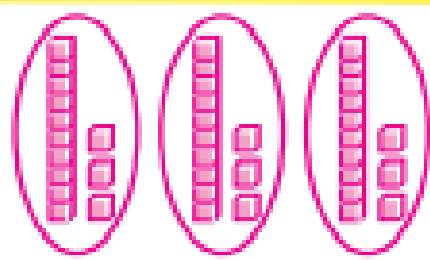
3

اقسم الأضعاف.

اقسم الأضعاف إلى 3 مجموعات متساوية.

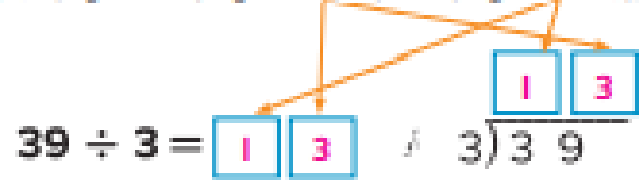
يوجد 3 في منزلة الأضعاف في كل مجموعة.

ارسم صورة تعرض المجموعات المتساوية.



رسوماتي

يوجد 1 في منزلة العشرات و 3 في منزلة الأضعاف في كل مجموعة.




إذ، ناتج القسمة صافى 13

## التجربة

بعض الأعداد لا تقسم بالتساوي. يطلق على الكو المتبقي **بإتي القسمة**.  
استخدم مصطلح "إتي القسمة" للإشارة إلى المتبقي من القسمة.

أوجد ناتج  $68 \div 5$  باستخدام مكعبات عد العشرات.



1

قسّم نموذجًا للمقسوم.

استخدم 6 عشرات و 8 أحدات لتوضح العدد 68.

2

قسّم العشرات.

اقسم العشرات إلى 5 مجموعات

متساوية. يوجد 1 في منزلة العشرات

في 15. مجموعة أحد الكو، مجموعة العشرات

المتبقية إلى 10 في الأحاد.

يوجد 18 في الأحاد مع بعضها.

3

قسّم الأحاد

اقسم الأحاد إلى 5 مجموعات متساوية. ارس

صورة لعرض المجموعات المتساوية.

يوجد 1 عشرات و 3 أحدات في كل مجموعة. يتبقى 3 أحدات.

$$\begin{array}{r} \boxed{1} \boxed{3} R \boxed{3} \\ 5 \overline{) 68} \end{array}$$

يمكن أيضًا كتابة كذا القسمة بالصورة  
 $68 \div 5 = 13 \text{ ر } 3$ .

الرقم المتبقي في الأحاد هو إتي القسمة.

إذاً: 13 و 3 إتي القسمة  $68 \div 5 =$


## التفسير

1. **الممارسة**  **الاستنتاج** اشرح معاني وجود إتي القسمة عند القسمة.


**الإجابة النموذجية:** في القسمة، قد يتبقى عدد في الأحاد بعد إكمال عملية القسمة.

## التدريب

اكتب مسألة القسمة الموضحة في كل نموذج.




$$45 \div 3 = 15$$



$$57 \div 4 = 14 \text{ وبقي القسمة } 3$$

استخدم النماذج لإيجاد كل ناتج قسمة. ارسم المجموعات المتساوية.

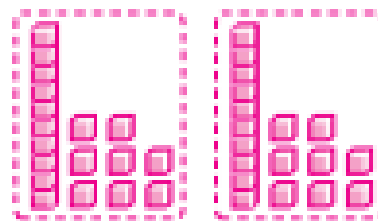
4.  $36 \div 2 = 18$



يوجد 1 في العشرات و 8 في الآحاد في كل مجموعة.

→ أي باقي 0


5.  $48 \div 3 = 16$



يوجد 1 في العشرات و 6 في الآحاد في كل مجموعة.

→ أي باقي 0

6.  $59 \div 4 = 14 \text{ وبقي القسمة } 3$



يوجد 1 في العشرات و 4 في الآحاد في كل مجموعة.

الباقي 3



## التطبيق!

استخدم النماذج التالي. راجع نماذج الطلاب.

7. يوجد 64 بلصقًا، كل طالب يحصل على 8 بلصقات. كم عدد الطلاب الموجودين؟

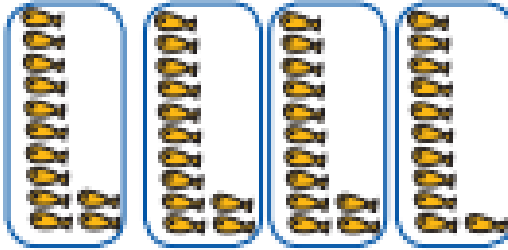
8 طلاب

8. يوجد 73 هدية، كل هدية يمكن أن تستوعب 9 هدايا، فكم عدد الحفلات البيئية؟ كم عدد الهدايا البيئية؟

يوجد 8 حفلات بيئية وستترك هدية واحدة.

9. **التمرين**  البحث عن الخطأ الذي أهدى به كلاب البحر 47 ووجد

طعام لـ 4 كلاب البحر. يوجد 4 كلاب بحر. لإيجاد عدد الوجبات التي سيحصل عليها كل كلب بحر، رسمت بها صورة في الجانب الأيسر لوضع نموذج المسألة  $47 \div 4$



انظر إلى رسمة بها صنف خطأ.

الإجابة النموذجية: لم ترسم بها عددًا متساويًا

للوجبات في كل مجموعة.

ارسم الصورة الصحيحة لإيجاد ناتج  $47 \div 4$

إذا، سيظهر كل كلب بحر 11 ووجد

كم عدد الوجبات البيئية؟ 3


## كتابة نبذة

10. كيف يمكن للخبيرة الكتابة أن تساعدني في الصبغة؟

الإجابة النموذجية: يمكن استخدام مكعبات نظام

عد العشرات لتكوين مجموعات متساوية من

العشرات والأحاد.



الدرس 3

نشاط عملي: استخدام القيمة المئوية للقسمة


# واجباتي المنزلية

## مساعد الواجب المنزلي

بعض الأعداد لا تقسم بالتساوي. في هذه الحالة، يوجد باقي قسمة.

أوجد ناتج قسمة  $43 \div 3$

1 خرج بقودنا للبضوم، 43.

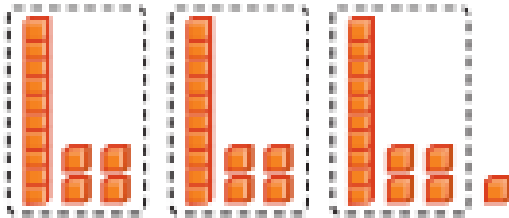


2 انقسم العشرات البضوم عليه هو 3. إذا انقسم العشرات إلى 3 مجموعات متساوية.

3 يوجد 1 عشرات متبقي. أحد تكوين هذا الرقم في العشرات ليصبح 10 من الأعداد.

4 10 من الأعداد زائد 3 من الأعداد. من البتضح أنها كانت 13 من الأعداد انقسم العدد 13 من الأعداد إلى مجموعات متساوية.

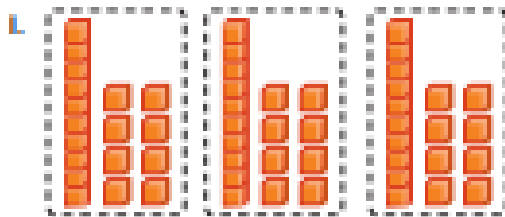
يوجد 1 عشرات و 4 أعداد في كل مجموعة.



يوجد 1 أعداد متبقي. العدد البتضح في الأعداد يطلق عليه باقي القسمة. إذا الناتج يساوي 14 و 1 باقي القسمة.


## تمرين

اكتب مسألة القسمة الموضحة في النموذج.



$54 \div 3 = 18$

اكتب مسألة القسمة الموضحة في النموذج.



$$47 \div 4 = 11 \text{ و باقي القسمة } 3$$

3-4. راجع عمل الطلاب.

حل المسائل



استخدم النموذج لإيجاد ناتج كل قسمة. ارسِ المجموعات المتساوية.

3. يوجد 70 بطاقة. يحصل كل فرد على 5 بطاقات. فكم عدد الأفراد الموجودين؟

$$70 \div 5 = 14$$

يوجد 14 فرد.

4. **الممارسة**  الاستنتاج يوجد 83 قاعداً. كل حافلة يمكن أن تستوعب

4 قاعات. فكم عدد الحافلات البسيطة؟ كم عدد البتقي من القاع؟

$$20 \text{ و باقي القسمة } 3 \quad 83 \div 4 =$$

يوجد 20 حافلة بسيطة.

يوجد 3 قاعات متبقية.

ملاحظات

## مراجعة المفردات

5. اشرح سبب وجود باقي القسمة أحياناً في مسائل القسمة.

الإجابة النموذجية: يوجد باقي القسمة عندما لا يمكن قسمة العدد المقسوم إلى

مجموعات متساوية يملكها المقسوم عليه.