



ورقة عمل وحدة القيمة المكانية
حتى درس العد بالعشرات باستخدام الفلوس

حوظ مجموعة مكونة من ١٠ ثم اكتب عدد العناصر الإضافية :



١٠ و إضافية



١٠ و إضافية

لدى هدى ١٠ دمي من الدببة في غرفتها ولديها أيضا ٢ من الانسان الالي فما عدد الألعاب التي
تمتلكها هدى اجمالا ؟
لعبة

حوظ مجموعة مكونة من ١٠ ثم اكتب عدد العناصر الإضافية ثم اكتب العدد



١٠ و إضافية

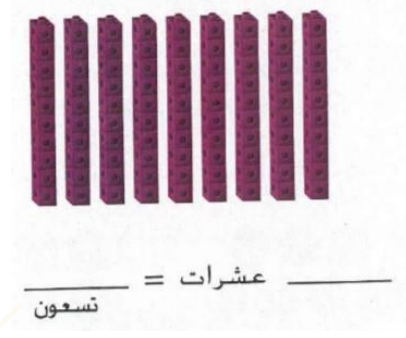
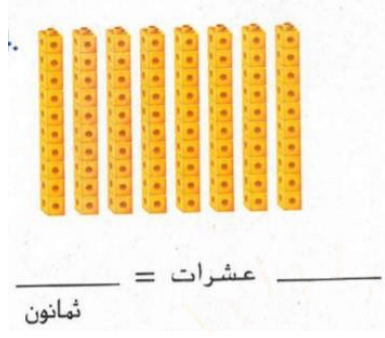
العدد هو



١٠ و إضافية

العدد هو

إِسْتِخْدِمُ 📦. كَوْنْ مَجْمُوعَاتٍ مِنْ عَشْرَاتٍ، ثُمَّ عَدَّ بِالْعَشْرَاتِ وَكْتُبِ الأَعْدَادَ.



عدّ بالعشرات مع كتابة الأعداد. كم مقدارها إجمالاً؟



_____ فلسات
_____ فلساً
_____ فلساً
إجمالاً



_____ فلسات
_____ فلساً
_____ فلساً
_____ فلساً
_____ فلساً
_____ فلساً
_____ فلساً
إجمالاً

تم الحل بواسطة
لدى سهيلة ١٠ و ٦ دمي على سريرها فما العدد الذي يوضح مقدار الدمي الكلي على سريرها؟

يوجد ٤ صناديق يحتوي كل صندوق ١٠ ازرار في داخله فما عدد الازرار الموجودة اجمالاً؟
زرا

ما المجموعة التي توضح العد بالعشرات؟

١٠، ٢٠، ٣٠، ٤٠

٥، ١٠، ١٥، ٢٠