



المادة : الرياضيات

الصف : الرابع

عدد صفحات الأسئلة : (6)

امتحان نهائية الفصل الدراسي الثالث
للعام الدراسي 2017 / 2018 م

ضع دائرة حول رمز الإجابة الصحيحة فيما يأتي :

100

(1) أي نمط مما يلي يتبع القاعدة طرح 2 وإضافة 4 ؟

a) 18,16,20,18,22

b) 18,16,19,17,20

c) 18,16,22,20,26

d) 18,16,21,19,24

(2) بالاعتماد على المعادلة $(f \times 3) - 2 = m$ ، إذا كانت $f = 8$ ما قيمة m ؟

a) 16

b) 10

c) 13

d) 22

(3) ما العدد الذي يعد أوليًا؟

27

12

18

19

a) 12

b) 19

c) 27

d) 18

اضغط هنا

قناة ملفات رياضيات

رابع 4

4) أوجد قيمة $6\frac{5}{8} - 1\frac{2}{8}$ في أبسط صورة.

a) $3\frac{5}{8}$

c) $2\frac{5}{8}$

b) $5\frac{3}{8}$

d) $8\frac{3}{8}$




5) مع عبيد ومع كل من أصنقانه الأربعة $\frac{1}{2}$ عتبة من البسكويت .
كم عدد عتب البسكويت التي معهم جميعاً؟

a) $2\frac{1}{2}$

c) $4\frac{1}{2}$

b) $3\frac{1}{2}$

d) 2



6) أي الأعداد العشرية تمثل الجزء المظلل من النموذج

a) 0.1

c) 0.5

b) 0.05

d) 5.0



7) ظلت ليلى $\frac{1}{7}$ من تصميمها .

ما العدد الذي يعطى أفضل تقدير للجزء المقتل من التصميم؟

a) 0

b) $\frac{6}{7}$

c) 1

d) $\frac{1}{2}$

8) أي الأعداد العشرية مرتبة من الأصغر إلى الأكبر ؟

a) 0.25 , 0.6 , 0.35

b) 0.1 , 0.25 , 0.35

c) 0.25 , 0.35 , 0.2

d) 0.9 , 0.35 , 0.25



9) اختر التقدير الأكثر منطقية لسعة

a) 17 L

b) 170 L

c) 170 mL

d) 7 mL



10) كتلة حقيبة سفر 16 كيلوجراما . كم تبلغ كتلة الحقيبة بالجرامات ؟

a) 16,000 g

b) 160 g

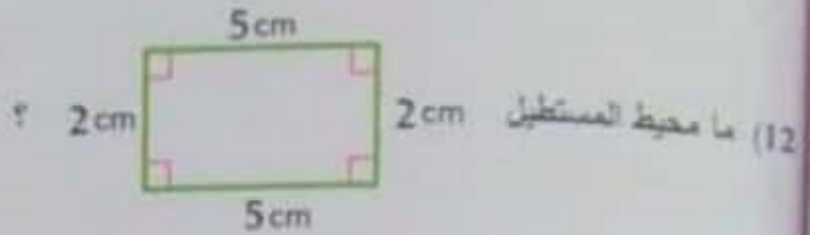
c) 1,600 g

d) 16 g

(11) أي مما يلي يكافئ 400 متر ؟

- a) 4 كيلو متر
c) 4,000 سنتيمتر

- b) 40 كيلومتر
d) 40,000 سنتيمتر



- a) 28 cm
c) 18 cm

- b) 22 cm
d) 14 cm

(13) أوجد مساحة المستطيل بالوحدات المربعة .



- a) 15
c) 12

- b) 11
d) 18

(14) مربع محيطه 20 متراً . ما مساحته ؟



- a) 25 متراً مربعاً
c) 21 متراً مربعاً

- b) 36 متراً مربعاً
d) 49 متراً مربعاً

Q-B-F-S



15) أي الأوصاف هي الوصف الصحيح للشكل ؟

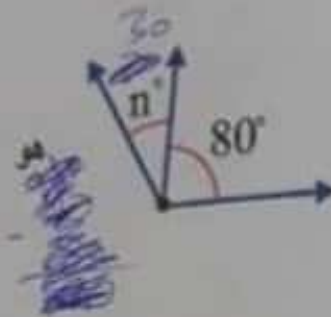
a) $\overline{QS} \perp \overline{BF}$

c) $\overline{QB} \parallel \overline{SF}$

b) $\overline{QB} \perp \overline{SF}$

d) $\overline{QS} \parallel \overline{BF}$

هو 110° ما قيمة n ؟



16) قياس الزاوية المركب في الشكل

a) 10

c) 50

b) 40

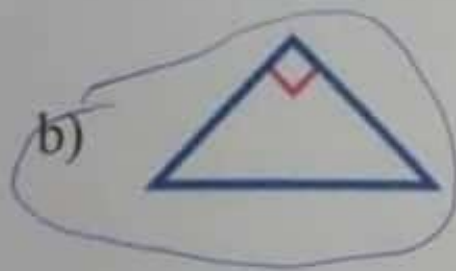
d) 30

17) أي مما يلي هو مثلث قائم ؟

a)




b)



c)



d)



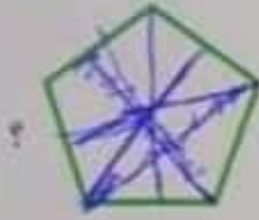
لا يحتوي على أضلاع متقابلة متساوية في الطول ؟

a) المربع

b) متوازي أضلاع

c) شبه المنحرف

d) المعين



كم عدد خطوط التناظر المحوري للشكل ؟

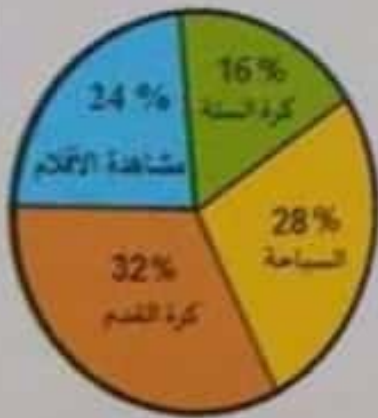
a) 3

b) 5

c) 4

d) 6

استطلع محمد 25 شخصاً بشأن النشاط الترفيهي المفضل لديهم .
 أوضح التمثيل البياني الدائري نتائج الاستطلاع.
 ما عدد الطلاب الذين صوتوا للمسابقة ؟



a) 7

b) 4

c) 8

d) 6

التثبت الأسئلة
 بالتنسيق والتعاون