



السؤال الأول

60

ضع دائرة حول رمز الإجابة الصحيحة فيما يأتي :

1) اكتب العدد الموضح في النموذج أدناه.



a) 8

b) 18

c) 17




$$\begin{array}{r} 10 \\ + 2 \\ \hline \end{array}$$

2) لدى عائشة بعض الزهور . فليها 10 و 2 إضافية .
ما العدد الذي يوضح مقدار الزهور الموجودة لديها ؟

a) 12

b) 11

c) 8



3) ما العدد الذي يمثل

a) سبعون

b) ثمانون

c) ستون



(4) اكتب العدد الذي تمثله

a) 20

b) 24

c) 42

العشرات	الآحاد

(5) اكتب العدد في النموذج.

a) 75

b) 80

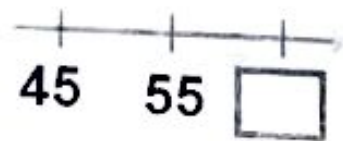
c) 85

(6) كم عدد العشرات الموجودة في العدد 93 ؟

a) 9

b) 3

c) 5



(7) اكتب العدد الناقص .

a) 50

b) 40

c) 65

8) ما العدد الأصغر من العدد **31** ؟

a) 28

b) 45

c) 37

9) عدّ بالخمسات، ما مقدار المال المعروض ؟



a) 30 فلسًا

b) 35 فلسًا

c) 25 فلسًا

10) عدت ليلتي من **113** إلى **117** . ما العدد التالي ؟

a) 115

b) 118

c) 112

11) اشترى حسن سيارة لعبة مقابل 500 فلسًا. كم عدد الدراهم التي تظهر 500 فلسًا؟



a) 50

b) 5

c) 500



(12) تفكر هند في عدد، به 5 مجموعات من العشرات و 8 عناصر إضافية.
ما هو العدد ؟

a) 58

b) 85

c) 5

(13) 5 عشرات + 4 عشرات = عشرات .

a) 1

b) 9

c) 8

العشرات	الآحاد
4	5
+	2

(14) أوجد

a) 47

b) 43

c) 48



$$\begin{array}{r} 14 \\ + 9 \\ \hline \end{array}$$

(15) لدى راشد 14 قميصا، واشترى 9 قمصان إضافية.
كم عدد القمصان التي لديه إجمالاً ؟

a) 5

b) 19

c) 23

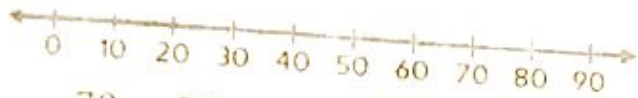
$$\begin{array}{r} 61 \\ + 30 \\ \hline \end{array}$$

(16) أوجد

a) 90

b) 91

c) 31



(17) اكتب الفرق مستخدماً خط الأعداد.

$$70 - 20 = \underline{\hspace{2cm}}$$

a) 50

b) 40

c) 90

$$80 - 40 = \underline{\hspace{2cm}} \text{ (18) أوجد.}$$

a) 50

b) 30

c) 40

$$10 + \underline{\hspace{2cm}} = 90 \text{ (19) حدد حقيقة الطرح المترابطة مع}$$

a) $90 - 10 = 80$

b) $90 - 20 = 70$

c) $10 + 80 = 90$

$$\begin{array}{r} 60 \\ - 20 \\ \hline \end{array}$$

(20) أوجد

a) 30

b) 40

c) 80

السؤال الثاني

40

21) عد بالعشرات مع كتابة الأعداد . كم مقدارها إجمالاً ؟



_____ فلس

_____ فلس

_____ فلس

_____ فلس

_____ فلس

فلس إجمالاً

قارن . اكتب > ، < ، أو = في

22) 15 51

23) 83 83

24) 48 41

$$\begin{array}{r} 54 \\ + 7 \\ \hline \end{array}$$



25) مع محمد 54 ملصقاً ورقياً . ولدى فارس 7 ملصقات ورقية .
ما عدد الملصقات الورقية التي معها إجمالاً ؟

ملصقاً _____

(26) تم مسح أحد الأعداد، فما العدد المفقود؟



(27) مع حليلة أزرار ملونة . لديها مئة واحدة ، وعشرة واحدة ، و 9 من الأحاد .
كم زرا لدى حليلة ؟



زرا _____

(28) مع عدنان قبعات بلونين . لديه 16 قبعة إجمالاً .
ما ألوان القبعات التي لديه ؟



(29) لدى أحد متاجر الحلويات 50 قطعة من الكعك، باع المتجر 30 منها.
ما عدد قطع الكعك المتبقية لدى المتجر ؟ (اكتب حقيقة جمع مترابطة)



$$\underline{\quad} - \underline{\quad} = \underline{\quad} \quad \underline{\quad} + \underline{\quad} = \underline{\quad}$$

انتهت الأسئلة
بالتوفيق والنجاح