

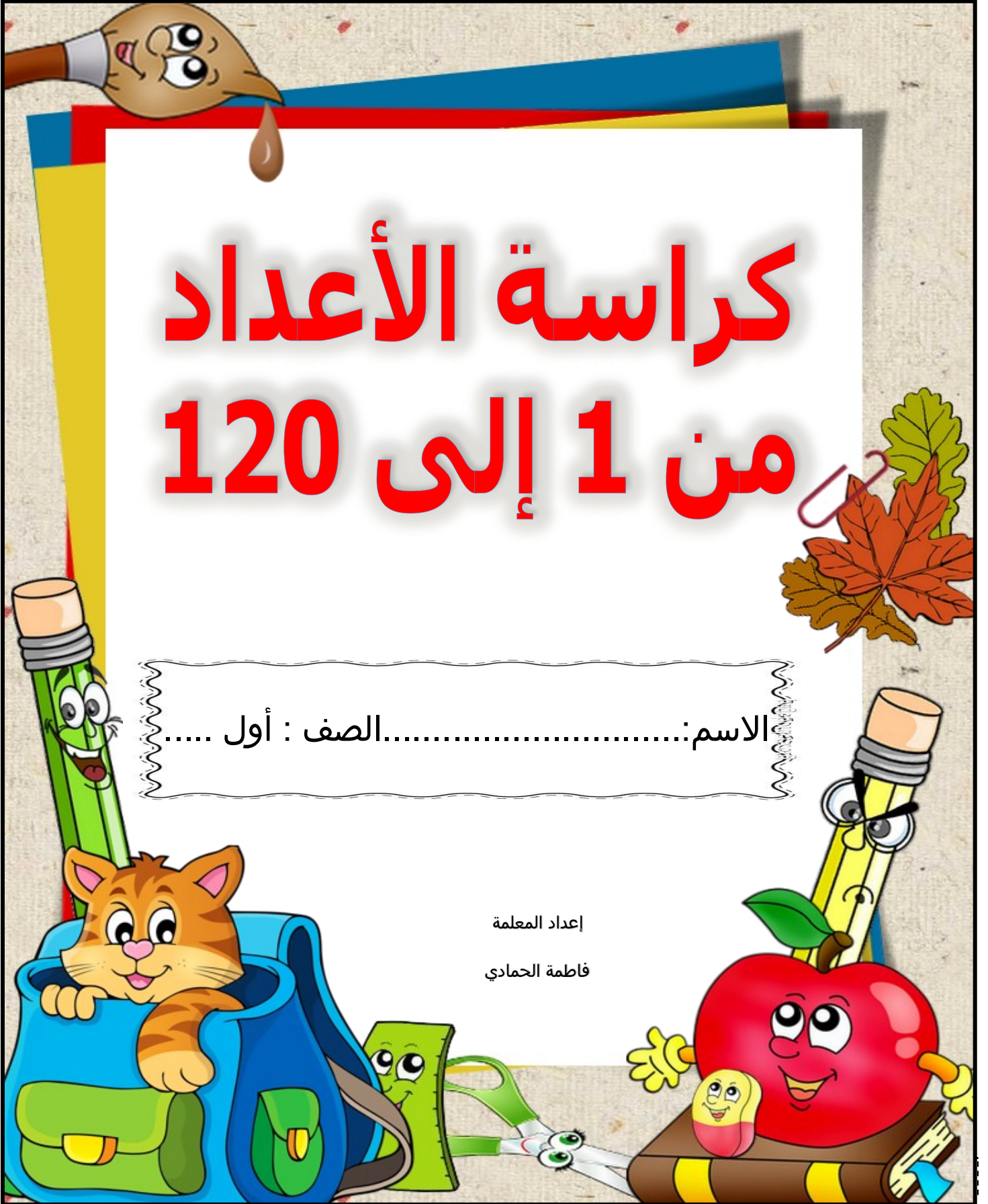


كراسة الأعداد من 1 إلى 120

الاسم: الصف : أول

إعداد المعلمة

فاطمة الحمادي

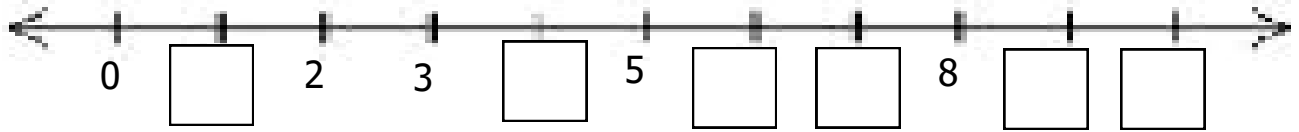


الأعداد من 0 إلى 10



الصف:

اسم الطالب:

السؤال الأول: أكمل تسلسل الأعداد



السؤال الثاني: اكتب العدد المناسب



السؤال الثالث: قارن بين الأعداد ضع علامة < أو = أو >

9 6

5 10

8 2

السؤال الرابع: اكتب العدد الناقص

1 3

4

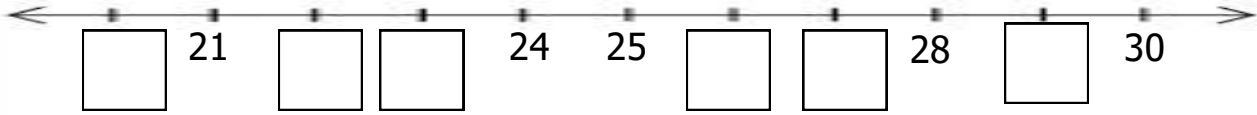
6 8

الأعداد من 20 إلى 30

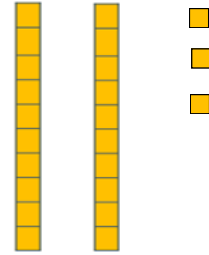
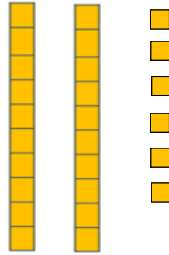
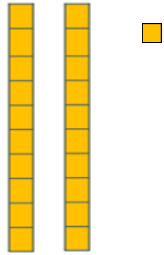
الصف:

اسم الطالب:

السؤال الأول: أكمل تسلسل الأعداد



السؤال الثاني: اكتب العدد المناسب (الآحاد والعشرات)



السؤال الثالث: قارن بين الأعداد ضع علامة < أو = أو >

30 ○ 28

26 ○ 29

28 ○ 25

السؤال الرابع: اكتب العدد الناقص

22		24
----	--	----

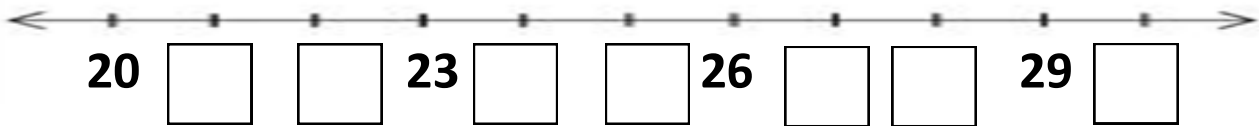
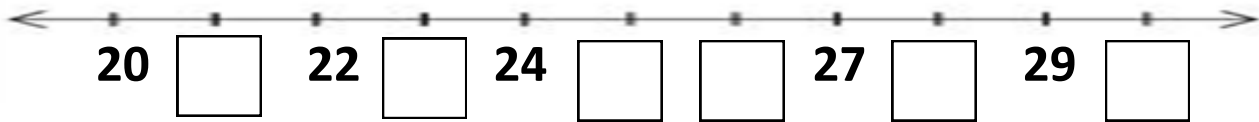
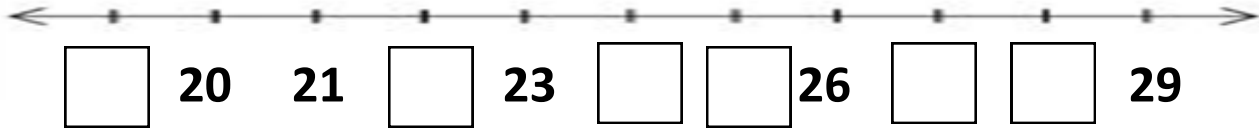
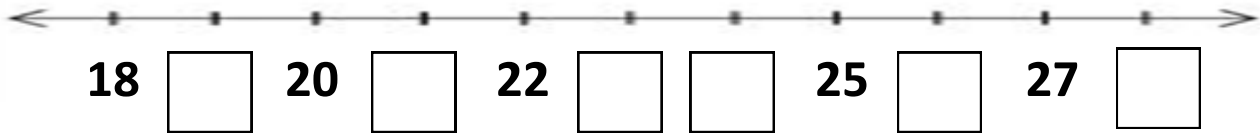
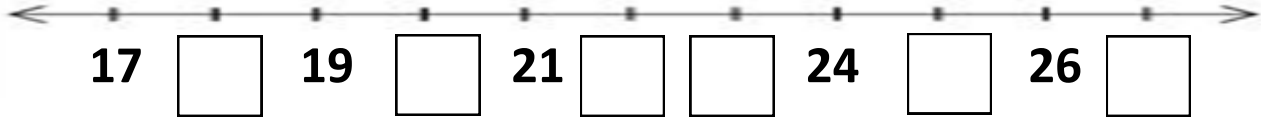
	21	
--	----	--

28		30
----	--	----

الأعداد من 20 إلى 30

الدرجة:.....

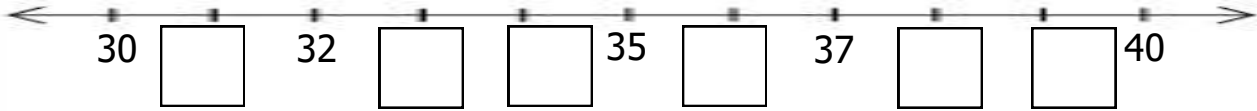
التاريخ:.....



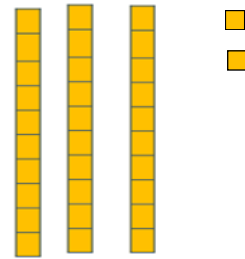
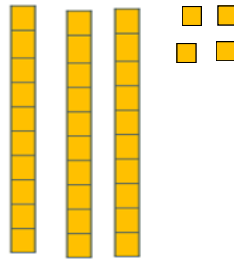


الأعداد من 30 إلى 40

التاريخ:

السؤال الأول: أكمل تسلسل الأعداد



السؤال الثاني: اكتب العدد المناسب (الآحاد والعشرات)



السؤال الثالث: قارن بين الأعداد ضع علامة < أو = أو >

39 ○ 40

34 ○ 37

36 ○ 32

السؤال الرابع: اكتب العدد الناقص

29 31

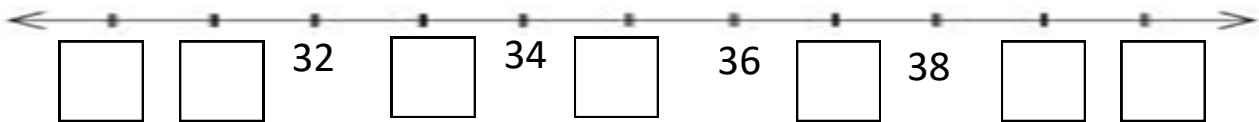
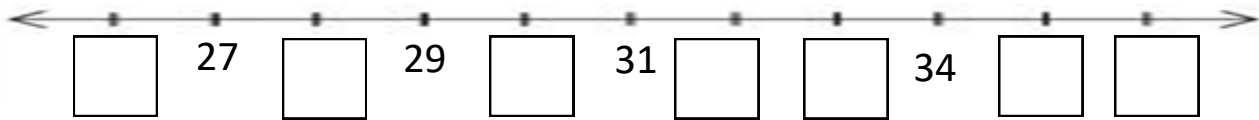
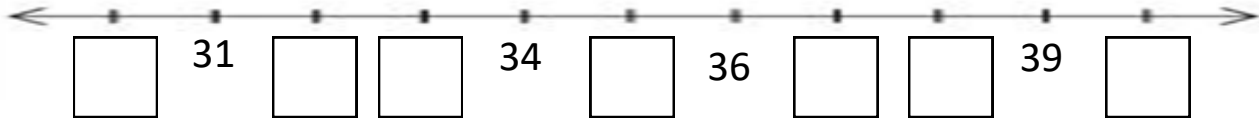
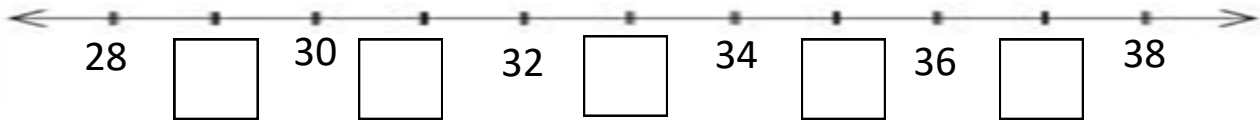
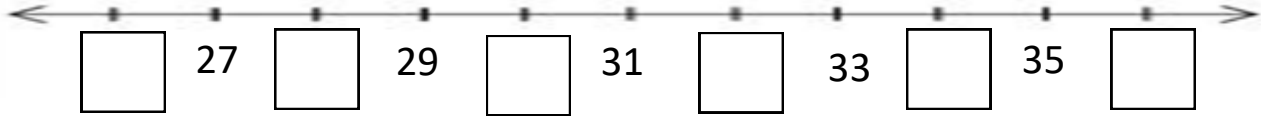
34

36 38

الأعداد من 30 إلى 40

الصف:

اسم الطالبة:

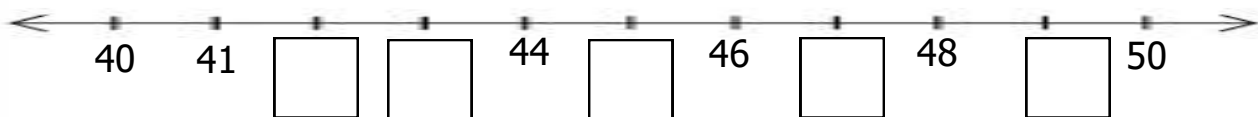


الأعداد من 40 إلى 50

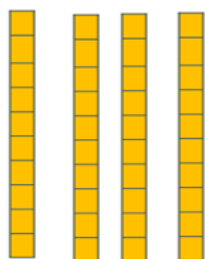
الصف:

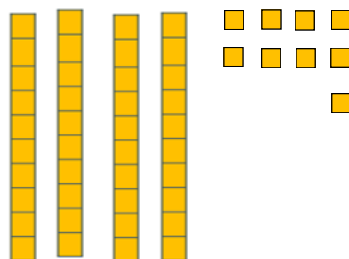
اسم الطالب:


السؤال الأول: أكمل تسلسل الأعداد



السؤال الثاني: اكتب العدد المناسب (الآحاد والعشرات)







السؤال الثالث: قارن بين الأعداد ضع علامة < أو = أو >

42 ○ 48

44 ○ 40

47 ○ 45

السؤال الرابع: اكتب العدد الناقص

38		40
----	--	----

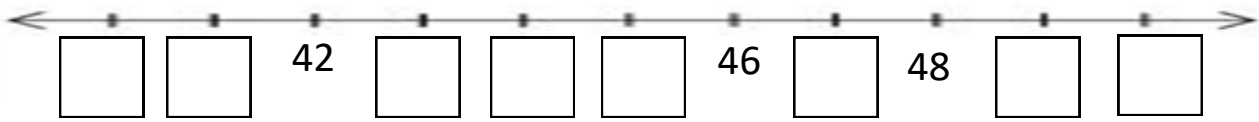
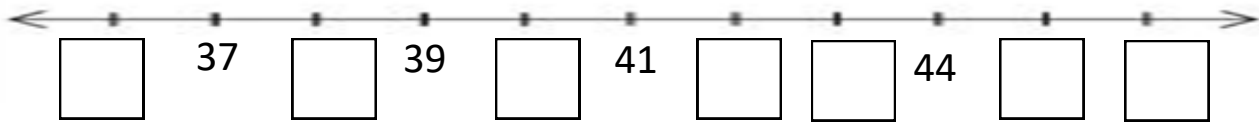
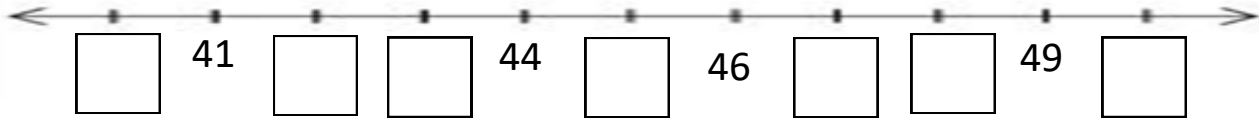
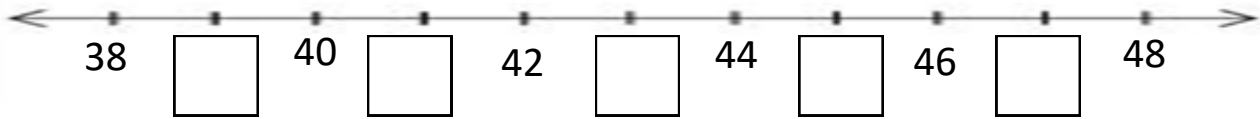
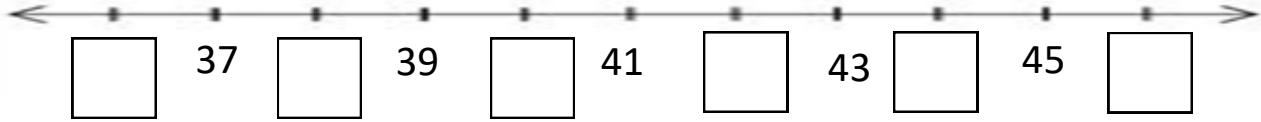
	43	
--	----	--

46		48
----	--	----

الأعداد من 40 إلى 50

الدرجة:



التاريخ:



	2		4		6		8		10
	12		14		16		18		20
	22		24		26		28		30
	32		34		36		38		40



		3			6			9	
	12			15			18		
21			24			27			30
		33			36			39	



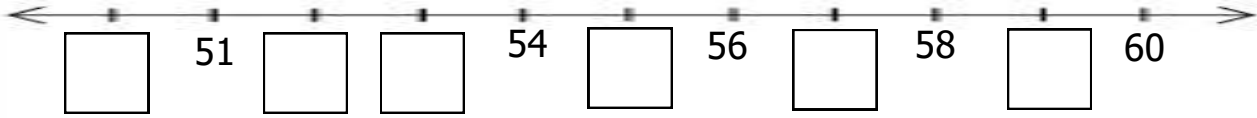
			4				8		
	12				16				20
			24				28		
	32				36				40

الأعداد من 50 إلى 60

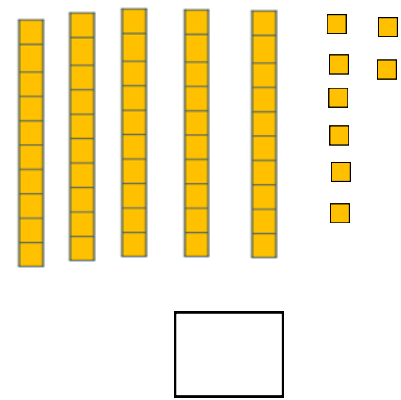
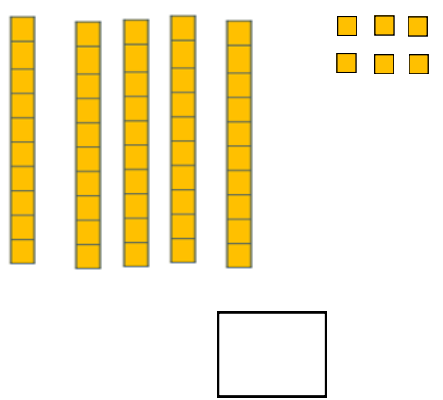
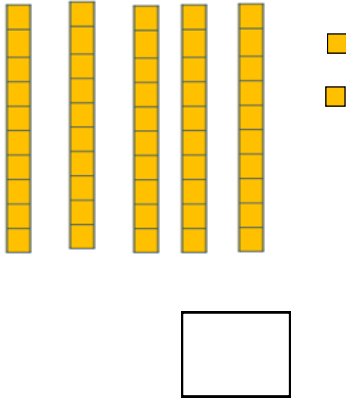
الصف:.....

اسم الطالبة:.....

السؤال الأول: أكمل تسلسل الأعداد



السؤال الثاني: اكتب العدد المناسب (الأحاد و العشرات)



السؤال الثالث: قارن بين الأعداد ضع علامة < أو = أو >

56 ○ 56

59 ○ 35

51 ○ 24

السؤال الرابع: اكتب العدد الناقص

53 □ 55

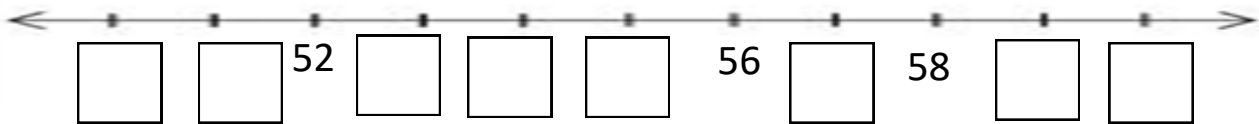
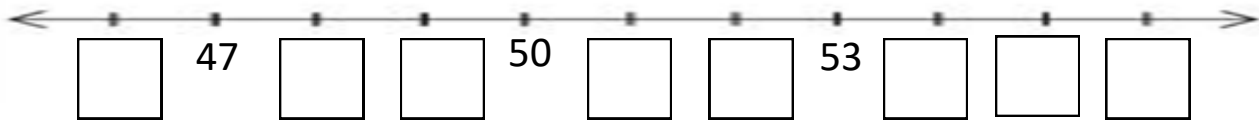
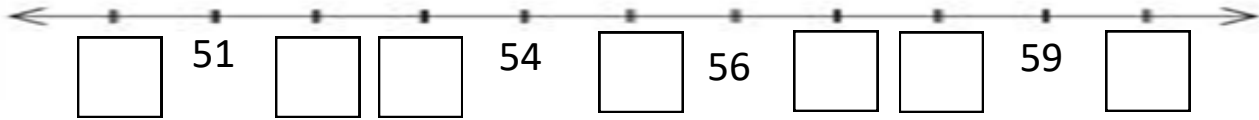
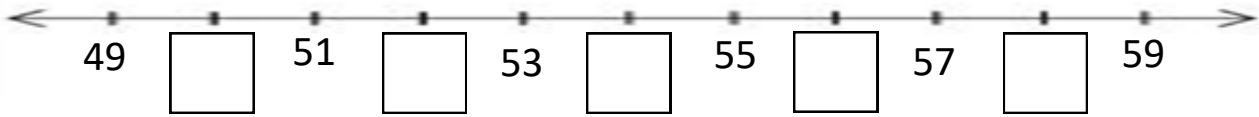
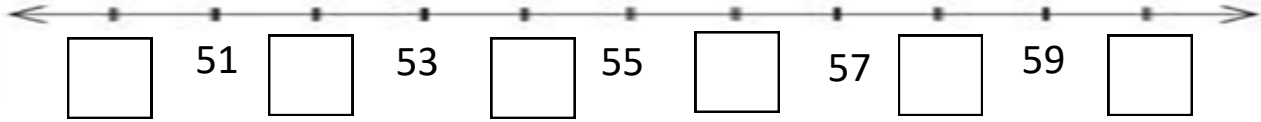
□ 50 □

51 □ 53

الأعداد من 50 إلى 60

الدرجة:.....

التاريخ:.....



الأعداد من 60 إلى 70

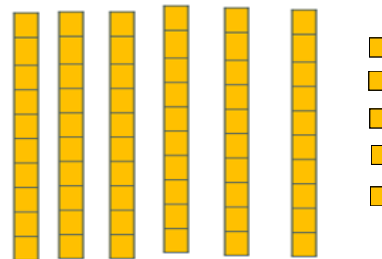
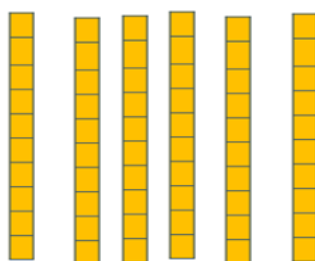
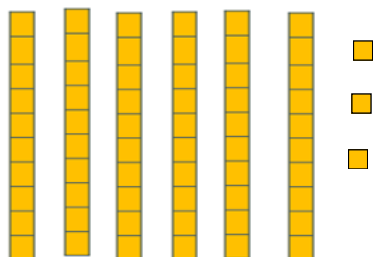
الصف:.....

اسم الطالب:.....

السؤال الأول: أكمل تسلسل الأعداد



السؤال الثاني: اكتب العدد المناسب (الآحاد والعشرات)



السؤال الثالث: قارن بين الأعداد ضع علامة < أو = أو >

$70 \bigcirc 60$

$66 \bigcirc 65$

$29 \bigcirc 68$

السؤال الرابع: اكتب العدد الناقص

63		65
----	--	----

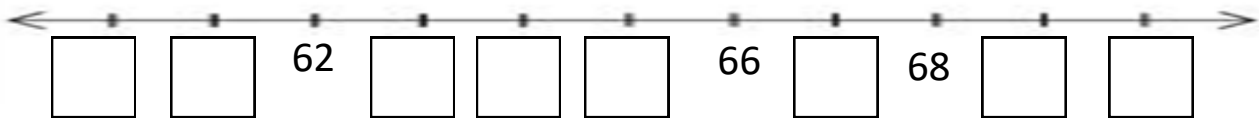
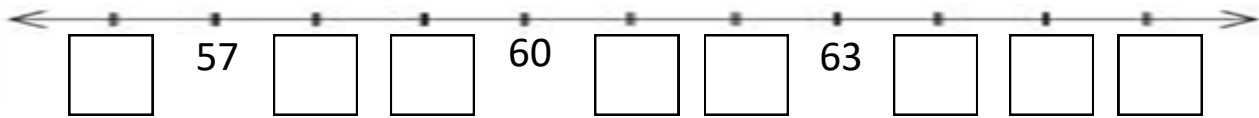
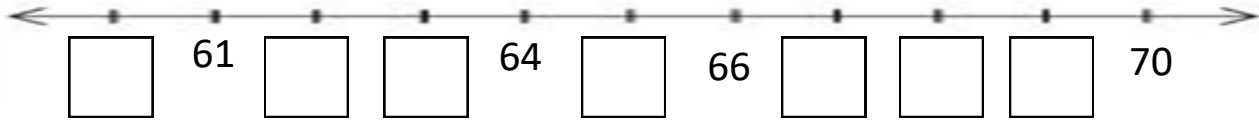
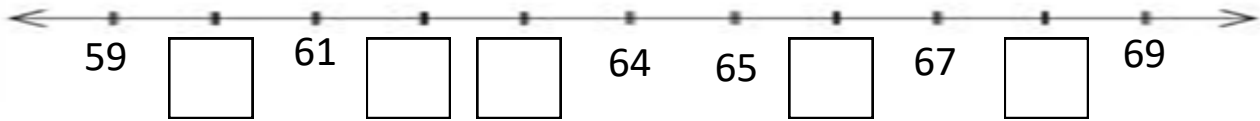
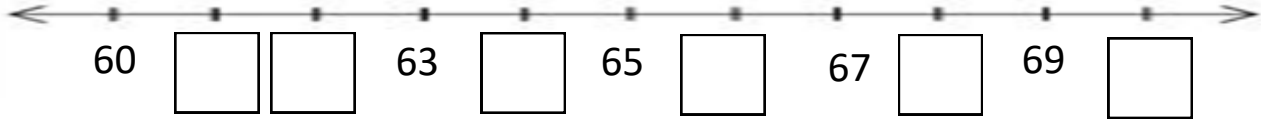
	60	
--	----	--

61		63
----	--	----

الأعداد من 60 إلى 70

الدرجة:.....

التاريخ:.....

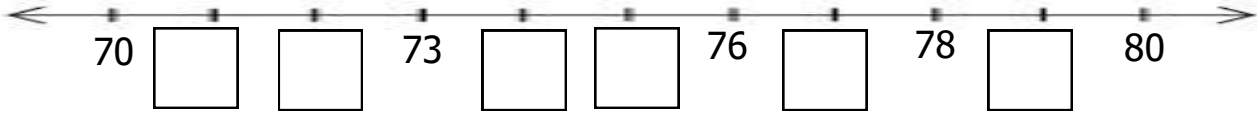


الأعداد من 70 إلى 80

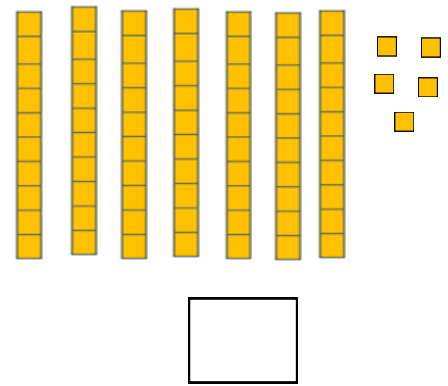
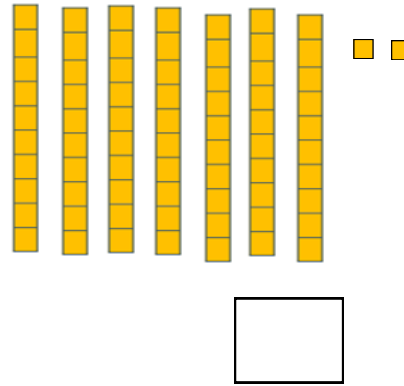
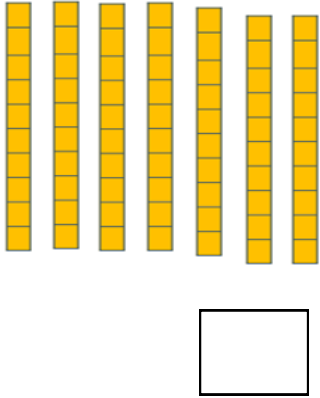
الصف:

اسم الطالب:

السؤال الأول: أكمل تسلسل الأعداد



السؤال الثاني: اكتب العدد المناسب (الأحاد والعشرات)



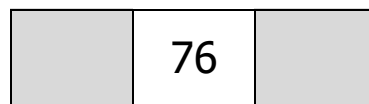
السؤال الثالث: قارن بين الأعداد ضع علامة < أو = أو >

74 ○ 75

77 ○ 77

72 ○ 71

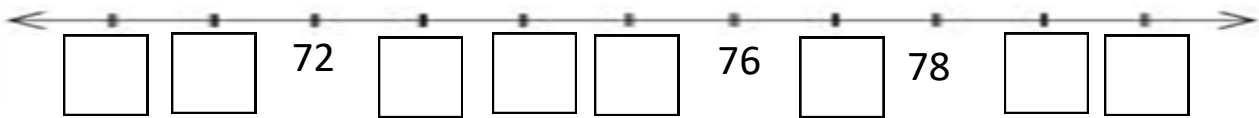
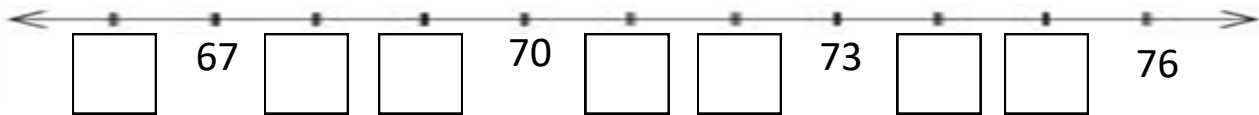
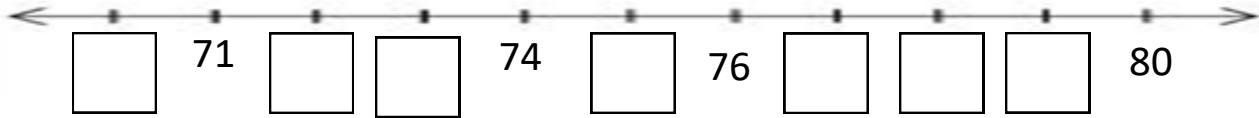
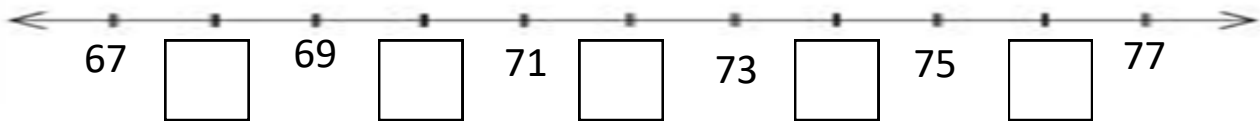
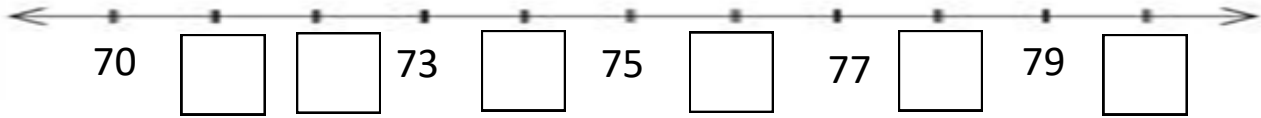
السؤال الرابع: اكتب العدد ناقص



الأعداد من 70 إلى 80

الدرجة:.....

التاريخ:.....

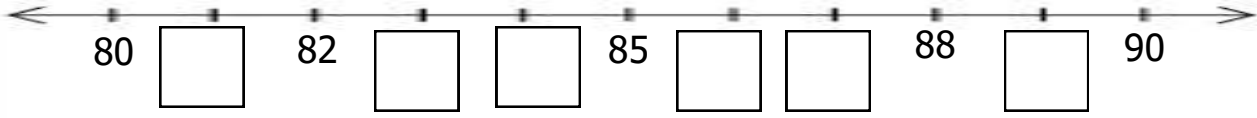


الأعداد من 80 إلى 90

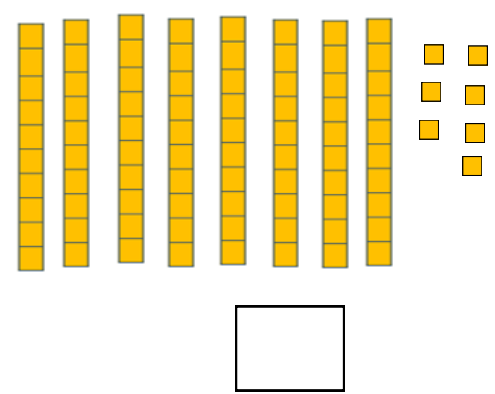
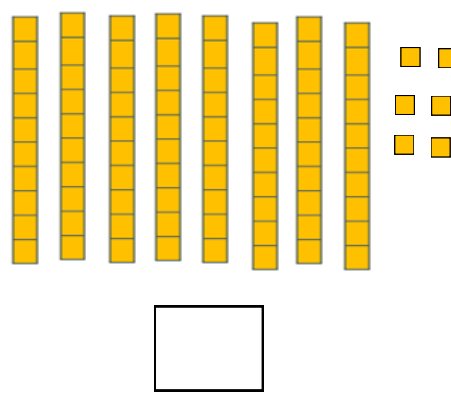
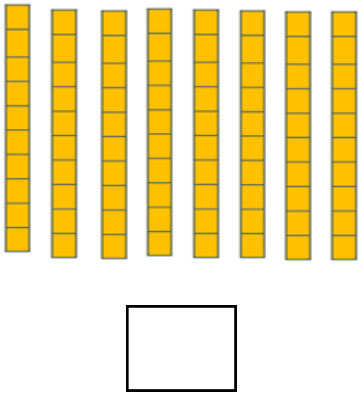
الصف:.....

اسم الطالب:.....

السؤال الأول: أكمل تسلسل الأعداد



السؤال الثاني: اكتب العدد المناسب (الآحاد و العشرات)



السؤال الثالث: قارن بين الأعداد ضعبي علامة < أو = أو >

82 ○ 81

90 ○ 89

82 ○ 86

السؤال الرابع: اكتب العدد الناقص

87 89

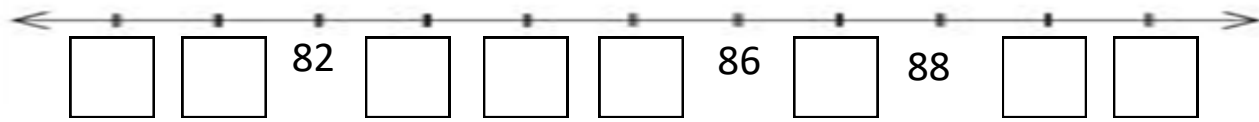
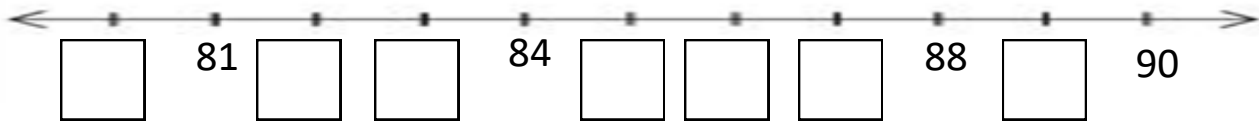
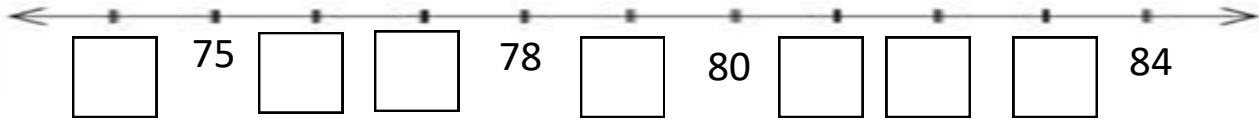
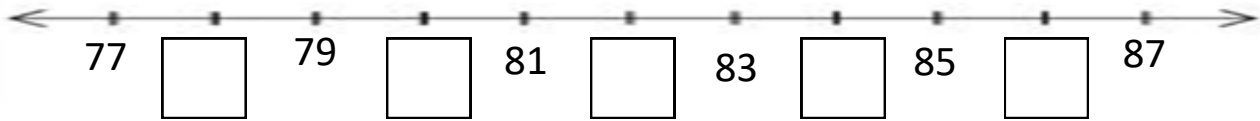
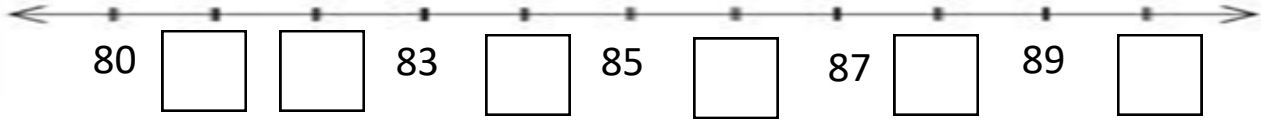
82

85

الأعداد من 80 إلى 90

الدرجة:.....

التاريخ:.....




	42		44		46		48		50
	52		54		56		58		60
	62		64		66		68		70
	72		74		76		78		80




كم أنتم رائعون



	42			45			48		
51			54			57			60
		63			66			69	
	72			75			78		



إنجاز رائع



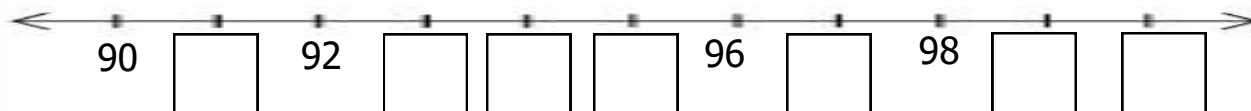
			44				48		
	52				56				60
			64				68		
	72				76				80

الأعداد من 90 إلى 100

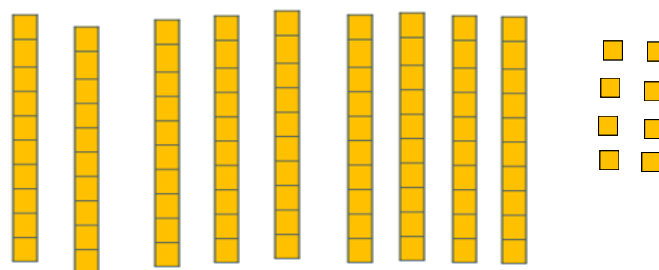

الصف:

اسم الطالب:

السؤال الأول: أكمل تسلسل الأعداد



السؤال الثاني: اكتب العدد المناسب (الآحاد والعشرات)



السؤال الثالث: قارن بين الأعداد ضع علامة < أو = أو >

49 ○ 94

99 ○ 100

91 ○ 89

السؤال الرابع: اكتب العدد الناقص

90		92
----	--	----

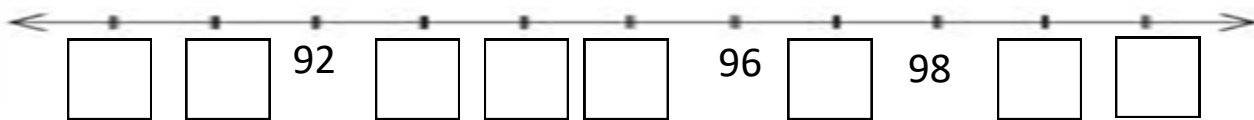
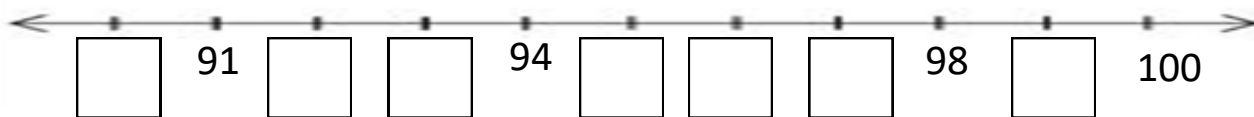
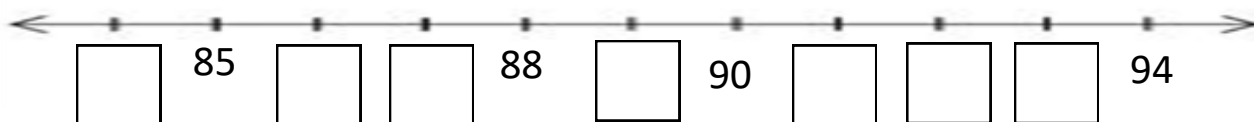
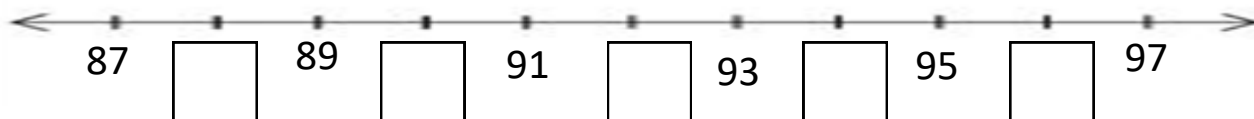
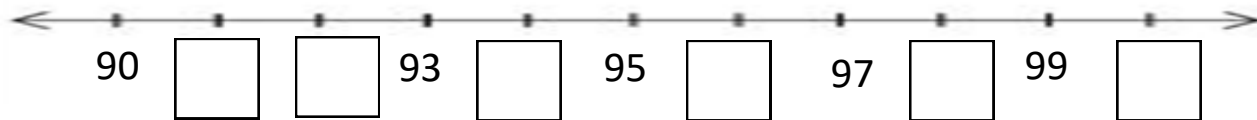
	99	
--	----	--

	93	
--	----	--

الأعداد من 90 إلى 100

الدرجة:.....

التاريخ:.....




الأعداد من 101 إلى 110

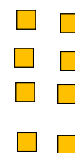


الصف:.....

اسم الطالب:.....

السؤال الأول: أكمل تسلسل الأعداد



السؤال الثاني: اكتب العدد المناسب (الآحاد والعشرات والمئات)



السؤال الثالث: قارن بين الأعداد ضع علامة < أو = أو >

103 ○ 103

108 ○ 105

104 ○ 99

السؤال الرابع: اكتب العدد الناقص

106 108

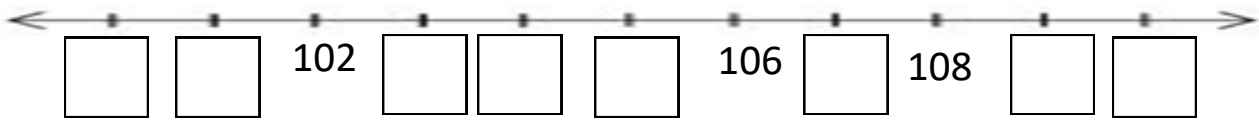
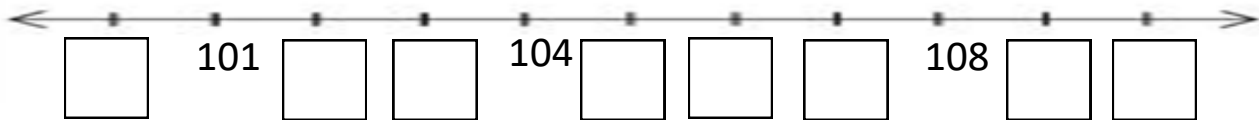
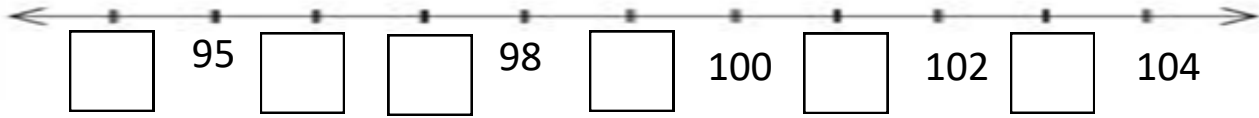
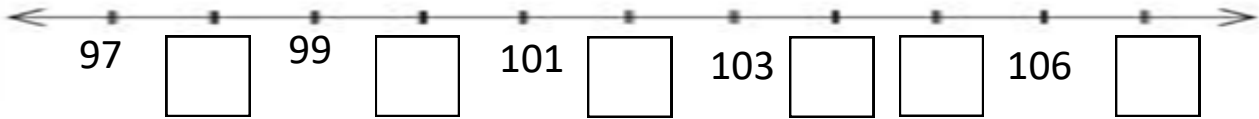
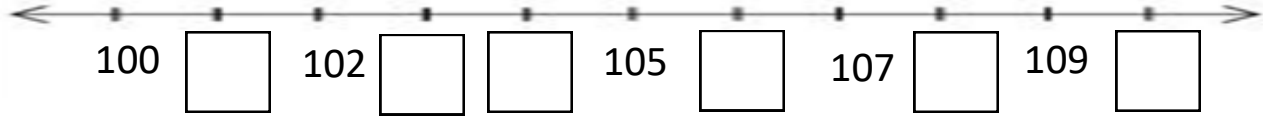
109

102

الأعداد من 100 إلى 110

الدرجة:

التاريخ:



الأعداد من 101 إلى 110


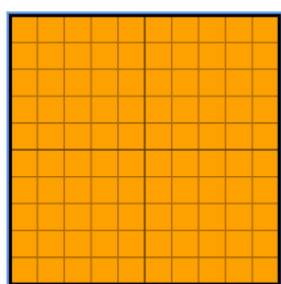
الصف:.....

اسم الطالب:.....

السؤال الأول: أكمل تسلسل الأعداد



السؤال الثاني: اكتب العدد المناسب (الآحاد و العشرات و المئات)



السؤال الثالث: قارن بين الأعداد ضع علامة < أو = أو >

115 ○ 86

99 ○ 111

120 ○ 119

السؤال الرابع: اكتب العدد الناقص

109 111

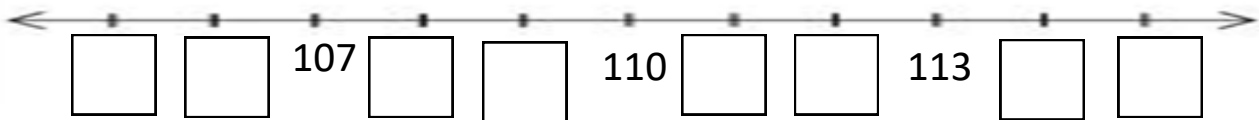
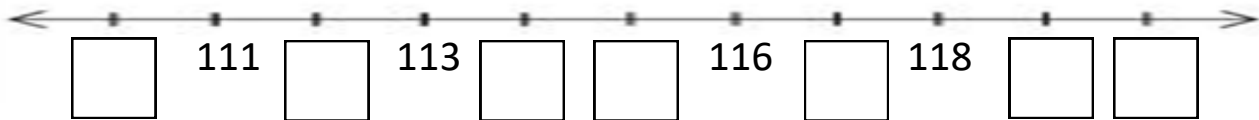
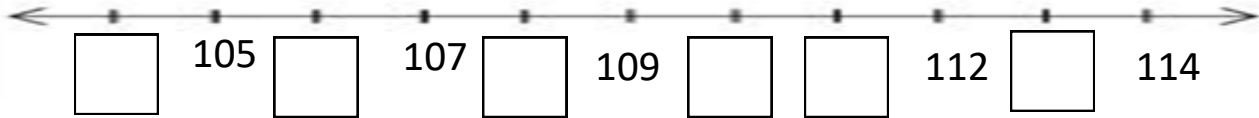
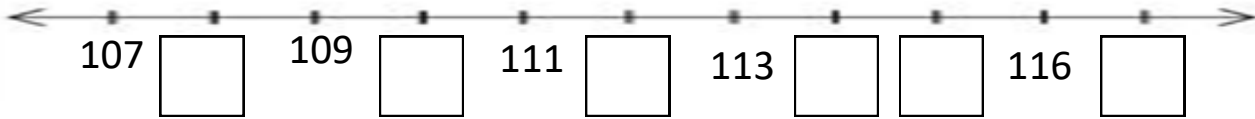
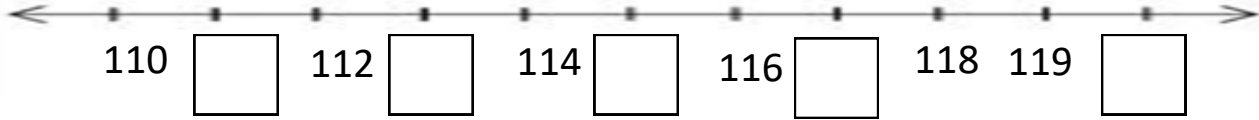
114

120

الأعداد من 101 إلى 110

الدرجة:.....

التاريخ:.....




71			74	75		77		79	
81		83		85		87	88		90
91	92		94		96		98		100
	102	103		105		107		109	
111		113	114		116		118		120



كفو لكل طالب
و طالبة

	82		84		86		88		90
	92		94		96		98		100
	102		104		106		108		110
111		113		115		117		119	



هيا نكمل لوحة المئة

1				5				9	
			14						
		23				27			
31				35					40
	42				46			49	
			54				58		
		63				67			70
71				75				79	
	92				96				100
101			104				108		
	112			115				119	