

السؤال الأول : قارن بين الاجسام . ارسم دائرة حول الإجابة الصحيحة



1- المبراة أقصر من عبوة الصمغ. و عبوة الصمغ أقصر من

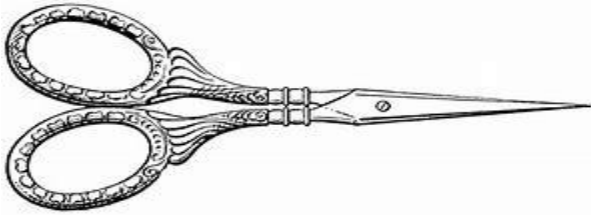
المقص



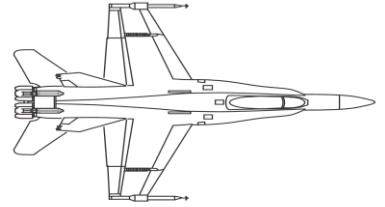

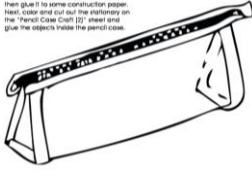
هل المقص أطول من المبراة أم أقصر منها ؟

أقصر من

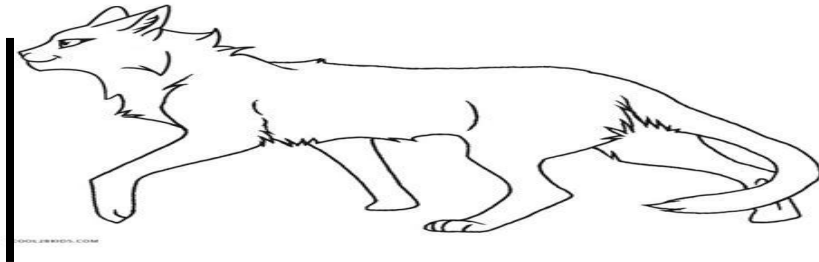
أطول من



السؤال الثاني : رتب الأشياء تبعا للطول . اكتب 1 للجسم القصير و 2 للأقصر و 3 للأقصر على الإطلاق



السؤال الثالث : استخدم المكعبات للقياس



حوالي ----- مكعب

السؤال الرابع : حل المسائل

ثمرة بطيخ تنمو بمقدار 1 (مكعب) كل يوم

و في يوم الأحد كان طولها 8 مكعبات

فكم يبلغ طول الثمرة يوم الثلاثاء من المكعبات ؟



المكعبات	الأيام
8	الأحد
	الاثنين
	الثلاثاء


مكعبات -----

السؤال الخامس : اكتب الوقت

www.HaveFunTeaching.com



www.HaveFunTeaching.com



www.HaveFunTeaching.com

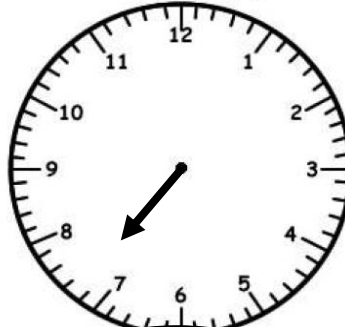


----- و نصف

الساعة -----

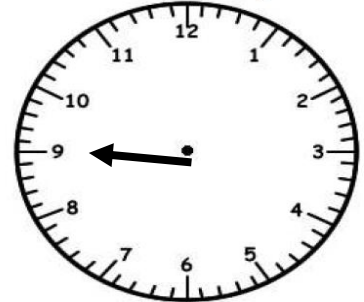
السؤال السادس : ارسم عقرب الدقائق لعرض الوقت

www.HaveFunTeaching.com



7:30

www.HaveFunTeaching.com



9:00



السؤال السابع : اكتب الوقت المناسب

1- الوقت على الساعة يزيد بمقدار ساعة عن 2:00 ، فكم الساعة ؟
اكتب الوقت

:

2- الساعة زائدة نصف ساعة و عقرب الساعات يقف بين 6 و 7 . كم الساعة إذا ؟ ارسم
العقارب على الساعة

www.HaveFunTeaching.com

