

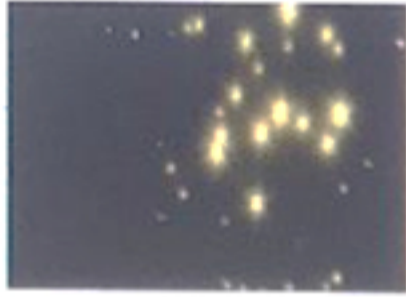


أنا المتميزة :  
من الصف: الأول /

السؤال الأول : أحوط الأشياء التي أراها بالسماء ليلاً:



السؤال الثاني: أرسم الأشياء التي أراها ليلاً ونهاراً :

الأجسام التي نراها ليلاً في السماء

الأجسام التي نراها نهاراً في السماء

--	--

أحوط الإجابة الصحيحة :

1- النجم هو ..... نراه في السماء .  
أ - جسم لامع      ب - جسم معتم      ج - جسم ثابت

2- نستخدم ..... لمراقبة الأجسام البعيدة في السماء .  
أ - العدسة المكبرة      ب - التلسكوب      ج - الترمومتر

3- أقرب النجوم إلى الأرض هي .....  
أ - القمر      ب - المريخ      ج - الشمس

4- تكون درجة الحرارة في ..... أكثر منها في الليل .  
أ - الليل      ب - النهار      ج - الصباح