

الدرس 1: أنواع الحيوانات

هل كل الحيوانات تتشابه؟ ولماذا؟

لا، تختلف الحيوانات الأخرى في الحجم واللون. فقد تمتلك سيقاناً وأنوفاً وأفواها مختلفة.

ما هي أنواع بعض الحيوانات؟

الحشرات	الأسماك	البرمائيات	الزواحف	الطيور	الثدييات	
يتكون جسمها من 3 أجزاء و6 أرجل	القشور	جلد أملس ورطب	جلد جاف - الحراشف - أو قواقع (تحافظ على سلامتها)	الريش	الشعر أو الفراء	ما يغطي جسمها
	تعيش تحت الماء - زعانف تساعد على السباحة - الخياشيم تساعد على التنفس تنتقل في أسراب	تعيش في اليابسة والماء تفقس من البيض في الماء وعندما تصبح يافعة تنتقل إلى اليابس	تزحف	لها ساقان وجناحان المنافير: -تساعد على تناول الغذاء -حمل الأشياء إلى أعشاشها معظم الطيور تطير	تقفز أو تمشي أو تسبح أو تطير	كيف تحرك وأين تعيش
تبيض	تبيض	تبيض	تبيض	تبيض	تلد	طريقة التكاثر
النمل/ الفراشات		السلمندر/ الضفادع	الثعابين/ السلاحف/ التماسيح	البط	حيوانات النيص/ الزرافة	بعض الأمثلة

- ليست كل الحيوانات التي تطير من الطيور، تعد الخفافيش من الثدييات وهي تطير
- الأسماك ليست هي الحيوانات الوحيدة التي تنتقل في أسراب.
- لا تعد العناكب من الحشرات لأن لها ثماني أرجل.

الوحدة الرابعة: كل ما يتعلق بالحيوانات
الدرس 1: أنواع الحيوانات

أي مما يلي غير صحيح بخصوص الأسماك؟



A. تعيش فالماء

B. لها رتتان



C. لها زعانف

D. لها قشور


حيوان من الثدييات:



حيوان من الطيور:




حيوان من الزواحف:





يتنفس عن طريق الخياشيم:




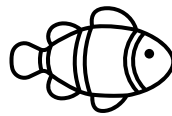
ليس من الحشرات:






تولد (لا تخرج من البيض).





من الحشرات:





تختلف عن الثدييات:



من الزواحف:



يعيش في الماء واليابسة:



يتشابه الطائر والفراشة في أن:

A. لهما نفس عدد السيقان

B. لهما منقار

C. كلاهما يطير


يغطي جسم الطائر بـ:

A. القشور



B. الشعر

C. الريش




أي من الحيوانات التالية ليست من الحشرات:




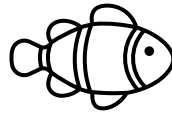

أي من الحيوانات التالية يتكون جسمها من ثلاث أجزاء:



أي من الحيوانات التالية تضع البيض فقط:



أي من الحيوانات التالية تلد فقط:



أي مما يلي غير صحيح بخصوص الأسماك:

A. لها رتتان

B. لها زعانف

C. لها قشور

أي مما يلي غير صحيح بخصوص الثدييات:

A. جسمها مغطاة بالشعر أو الفراء

B. لها رئتان

C. تلد وتعتني بصغارها

D. لها قشور

أي مما يلي غير صحيح بخصوص البرمائيات:


A. تعيش في الماء واليابسة

B. لها ريش




C. تنتقل إلى اليابسة عندما تكبر

D. لها جلد أملس ورطب

يغطي جسمها الحراشف:



لا تتنفس عن طريق الرئتين



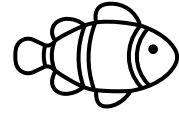


حيوانات مغطاة بالشعر أو الفراء يمكنها أن تقفز وتمشي أو تسبح أو تطير:

A. الثدييات


B. الطيور

C. الأسماك

حيوان يلد ويرضع صغاره الحليب:



حيوان له ساقان وجناحان:



للطيور _____ يساعدها على تناول الغذاء وحمل الأشياء إلى أعشاشها:

A. منقار

B. منشار

C. قشار

يعد الخفاش من _____ وهو يطير.

A. الأسماك

B. الطيور

C. الثدييات

حيوانات لها جلد جاف:

A. البرمائيات

B. الزواحف

C. الثدييات

يغطي جسم الزواحف:

A. الحراشف

B. الريش

C. القشور

حيوان له جلد أملس ورطب.

A. البرمائيات

B. الزاحف

C. الثدييات

تضع البرمائيات البيض في:

A. التربة

B. الماء

C. الصخور

حيوانات تعيش تحت الماء

A. الزواحف

B. البرمائيات

C. الأسماك

جسم الأسماك مغطى بـ:

A. الحراشف

B. الريش

C. القشور

للأسماك خياشيم تساعد على:

A. السباحة

B. التنفس

C. القفز

يتكون جسم الحشرات من ——— أجزاء.

6.A

4.B

3.C


للحشرات ——— أرجل.

6.A


4.B

3.C

من الحشرات





لا يعد من الحشرات



حدد الإجابة الصحيحة والخاطئة

- A. تستطيع جميع الطيور ان تطير.
- B. بعض الزواحف لها قواقع لتحافظ على سلامتها.
- C. تضع معظم الزواحف البيض.
- D. للأسماك زعانف تساعد على الطيران.
- E. الحشرات تبيض.
- F. تساعد الخياشيم الأسماك في التنفس تحت الماء.
- G. تعد الدلافين من الأسماك.
- H. الطيور حيوانات يغطي جسمها الشعر أو الفراء.
- I. يعد النمل والفراشات من الحشرات.

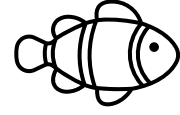

الحيوان الذي يعيش في الماء فقط




حيوان يتنفس بالخياشيم:




يغطي جسمه الريش:





من الثدييات ويستطيع الطيران:



الحيوان الذي يضع البيض:



يمكنه الانتقال بين الماء واليابسة:



أي مما يلي ليس من صفات الطيور:

A. يغطي جسمها الريش

B. تلد صغارها

C. لها منقار

أي مما يلي ليس من صفات الزواحف:

A. يغطي جسمها الحراشف

B. تبيض

C. تتنفس بالخياشيم

أي مما يلي ليس من صفات الثدييات:

A. تلد صغارها

B. يغطي جسمها الشعر

C. تتنفس بالخياشيم

ما الذي يساعد الطيور في الحصول على الغذاء:

A. الريش

B. المنقار

C. الرئتان

ما الي يساعد الأسماك في السباحة:

A. الزعانف

B. القشور

C. العيون

أي مما يلي ليست من صفات الأسماك:

A. يغطي جسمها قشور

B. تتنفس بالرئتين

C. لها زعانف


أي مما يلي ليست من صفات البرمائيات:

A. تعيش في الماء فقط


B. تبيض

C. جلد ناعم وأملس


لون الثدييات - حوط الزواحف - ضع خط تحت الطيور



صل بخط مستقيم بين الحيوان ونوعه فالجدول التالي:



طيور	حشرات	أسماك	زواحف	ثدييات	برمائيات
------	-------	-------	-------	--------	----------



املاً الفراغ بالكلمات المناسبة

الأسماك	تلد	الحشرات
---------	-----	---------

A. تستطيع _____ التنفس تحت الماء عن طريق الخياشيم.

B. _____ القبط والدلافين صغارها لأنها من الثدييات.


C. تعيش _____ على اليابسة ولها 3 أجزاء للجسم.

ضع الكلمات التالية في الفراغات في الجدول:

(ريش – الماء – زعانف – أعشاش – قشور – جناحان)


الطيور	الأسماك
A. تعيش في _____.	A. تعيش في _____.
B. لها _____ يساعدان في الطيران.	B. لها _____ تساعد في السباحة.
C. يغطي جسمها _____.	C. يغطي جسمها _____.

صل ما يلي:







يغطي جسمها الشعر
تضع لبيض
تعيش في اليابسة والماء

صنف الحيوانات التالية على حسب المجموعة:







تبيض	تلد
_____	_____
_____	_____

صنف الحيوانات التالية على حسب المجموعة:

			
4	3	2	1




تتنفس بالخياشيم	تتنفس بالرئتين
_____	_____
_____	_____

صنف الحيوانات التالية على حسب المجموعة:

			
4	3	2	1

يغطي جسمه الحراشف	يغطي جسمه القشور
_____	_____
_____	_____




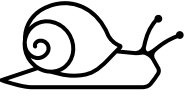






صنف الحيوانات التالية على حسب المجموعة:

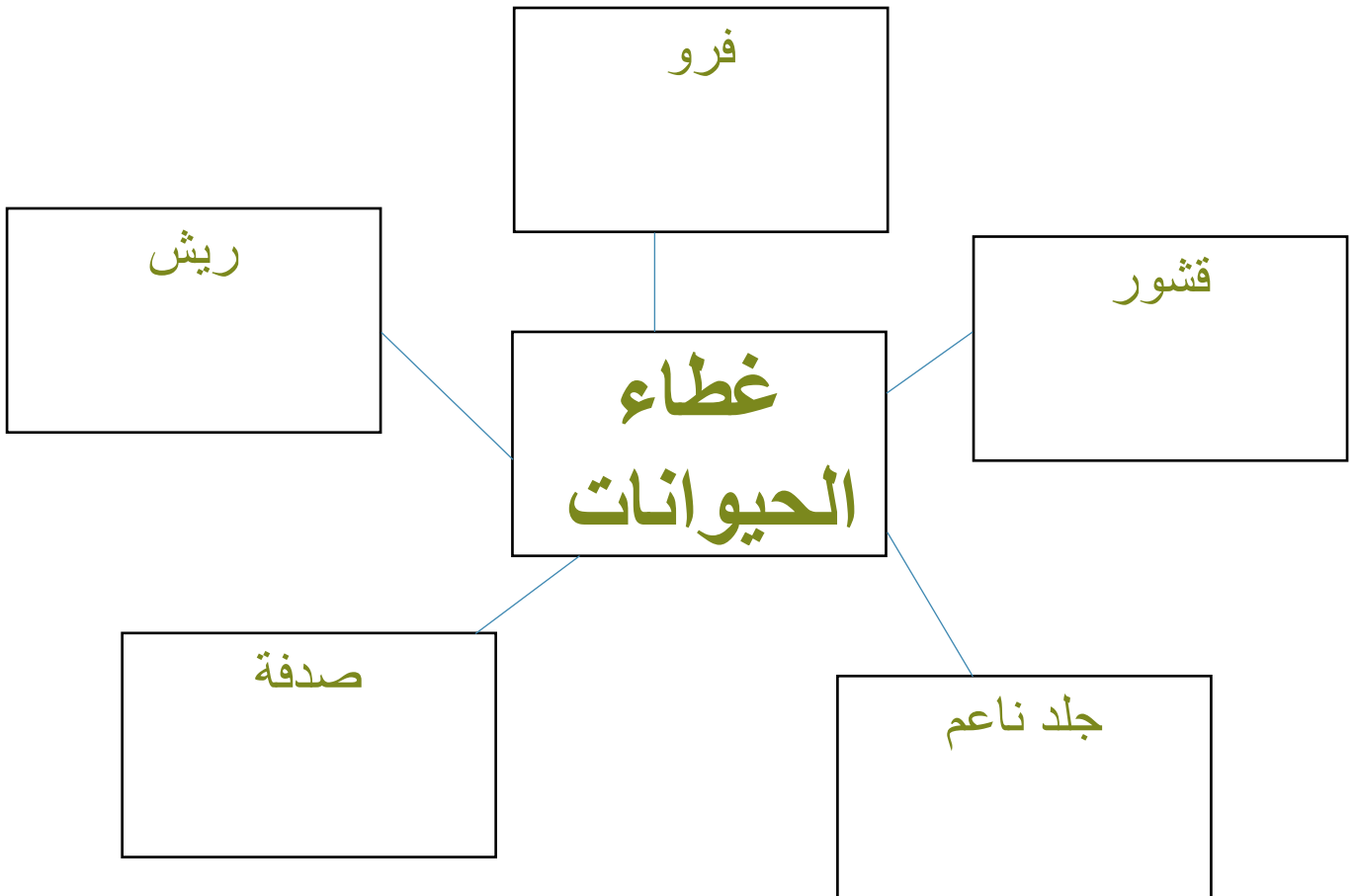
 3	 2	 1
--	--	--

جلد أملس	جلد جاف
_____ _____	_____ _____







صنف الحيوانات الآتية بكتابة الرقم في المكان الصحيح وفق ما يغطي

جسمها:

 5	 4	 3	 2	 1
 10	 9	 8	 7	 6





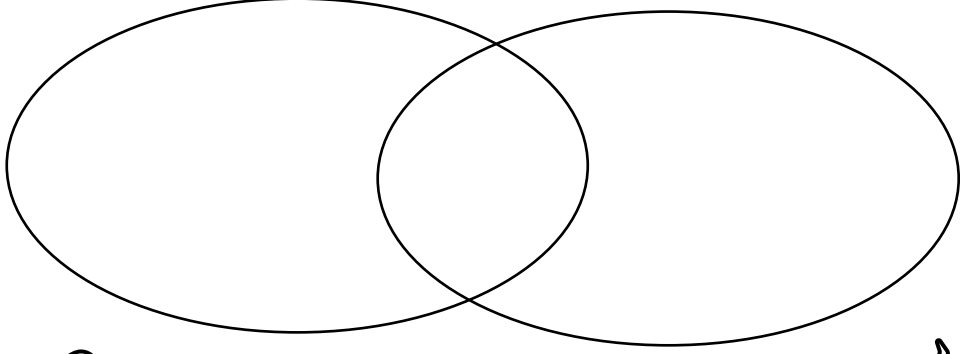
صل بخط مستقيم بين الحيوان والمجموعة التي ينتمي لها:

الثدييات
الطيور
الزواحف
البرمائيات
الأسماك
الحشرات

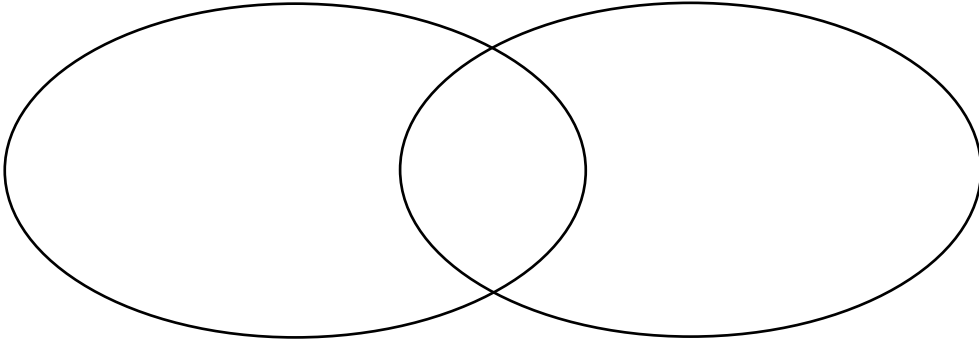
ما أوجه الشبة بين الماعز والكناري؟

لها ريش – تبيض – تلد صغارها – تتنفس بالرئتين – لها شعر



ما أوجه الشبة بين التمساح والضفدع؟


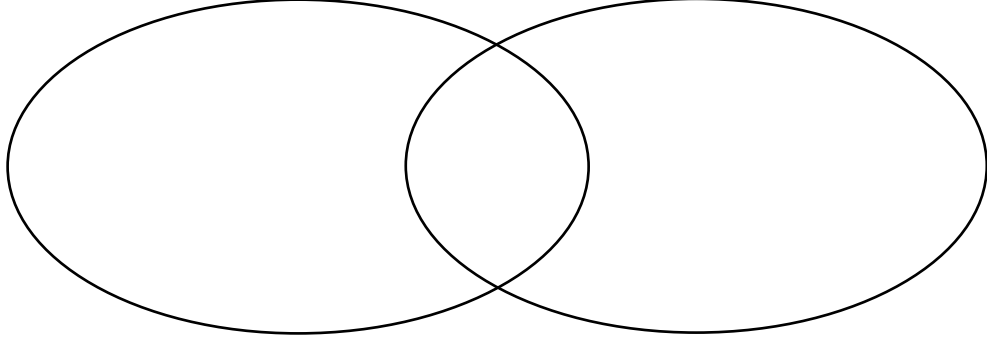
تبيض – جلد جاف – جلد أملس ورطب – 4 أرجل



ما أوجه الشبه بين السمكة والضفدع؟



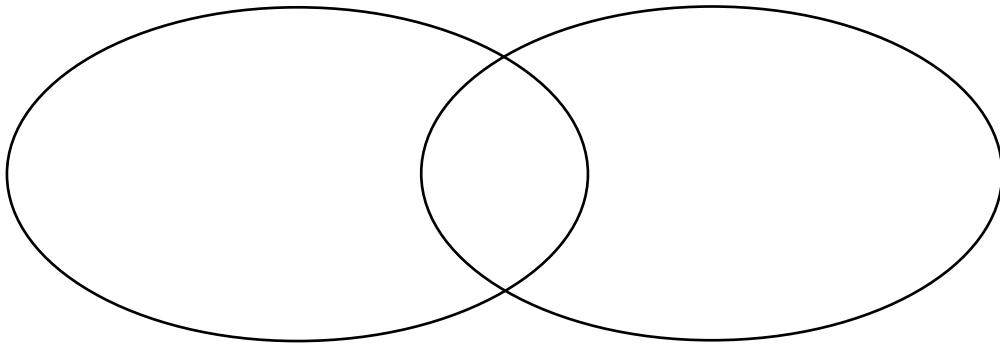
قشور – تبيض – جلد أملس ورطب – تعيش في الماء فقط – تنتقل

بين اليابسة والماء





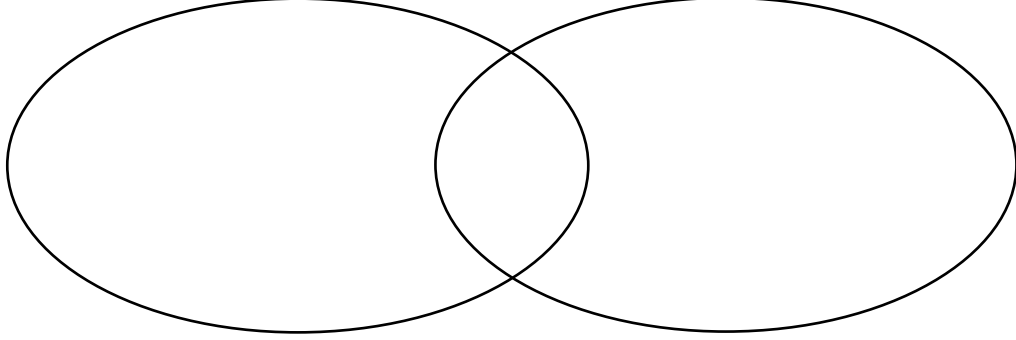
ما أوجه الشبه بين السمكة والسحفاة؟

لها قشور – تبيض – لها حراشف



ما أوجه الشبه بين السمكة والبطة؟

تبيض - تتنفس بالرئتين - لها قشور - لها ريش - تتنفس بالخياشيم



ما أوجه الشبه بين التمساح والبطة؟

تبيض - تتنفس بالرئتين - لها ريش - 2 رجلان - 4 أرجل -

لها حراشف

