

20

المادة : الدراسات الاجتماعية
الصف : الأول



مدرسة الامل للصم
الاسم /

التاريخ : / /

6

اختبار تشخيصي الفصل الدراسي الأول (2022-2023) الصف الأول

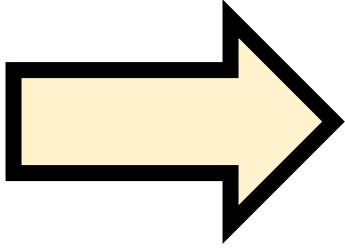
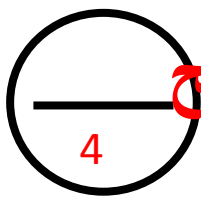
ضع إشارة (✓) أمام الصورة التي تدل على فصل الشتاء




السؤال الثاني: صل بين الصورة والفصل المناسب



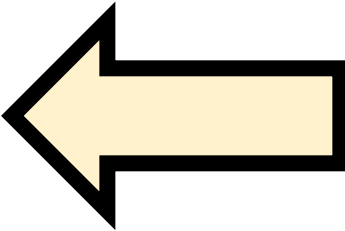
السؤال الثالث : صل بين الصورة والمفهوم الصحيح




الشمال



الجنوب



الشرق



الغرب

السؤال الرابع (أ) : صل بين الصورة والمفهوم

4

الشيخ خليفة

الشيخ زايد



2

السؤال الرابع (ب) : لون علم الإمارات
