




السؤال الأول

40

ضع دائرة حول رمز الإجابة الصحيحة فيما يأتي :



(1) أي من جمل الجمع العددية الآتية تمثل النموذج

a) $5 + 5 = 10$

b) $4 + 4 = 8$

c) $6 + 5 = 11$

d) $5 + 4 = 9$

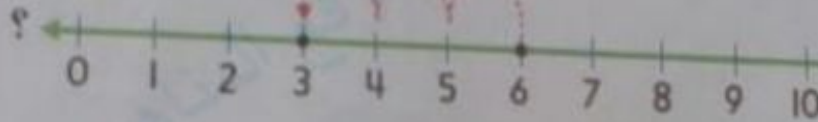
(2) أوجد ناتج $8 + 4$

a) 10

b) 12

c) 13

d) 11



(3) أي الجمل العددية يمثلها خط الأعداد

a) $6 - 3 = 3$

b) $6 - 2 = 4$

c) $3 + 3 = 6$

d) $1 + 5 = 6$

(4) إذا كان $8 + 7 = 15$. أوجد الحد الجمعي الناقص في $7 + \square = 15$


a) 15

b) 7

c) 8

d) 10

5- ما عدد العناصر الإضافية عن العدد 10 في الشكل أدناه ؟



- a) 7 b) 9 c) 5 d) 6



6- ما هو العدد الذي شكله ؟

- a) 90 b) 70 c) 80 d) 60

7- مع ليلي 7 نقاتر ومع حسن العدد ذاته من النقتر . ما مجموع النقتر التي معهما ؟

- a) 16 b) 14 c) 15 d) 13



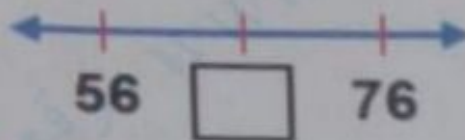
8- ما العبارة التي يمكن تكوينها باستخدام الأعداد ؟

- a) $6 + 6 = 12$ b) $6 + 3 = 9$
 c) $12 - 6 = 6$ d) $9 + 3 = 12$

9- أي من الأعداد الآتية هو تسعة وسبعون بالأرقام ؟

- a) 69 b) 97 c) 79 d) 76

10) ما هو العدد الناقص على خط الأعداد ؟



- a) 50 b) 70 c) 60 d) 66

11) مع محمد 23 قلماً ، وحصل على 10 أقلام إضافية . فما إجمالي عدد الأقلام التي مع محمد ؟

- a) 13 b) 33 c) 24 d) 43

12) ما هو الرقم الذي يمثل الآحاد في العدد ؟

109

- a) 9 b) 0 c) 1 d) 10

13) مع عائشة 6 دراهم في محفظتها . فكم فلساً لديها ؟

- a) 600 b) 60 c) 6 d) 100

14) ماهي البطاقة التي كتب عليها عدد فيه 9 عشرات و 8 آحاد ؟

- a) **86** b) **96** c) **89** d) **98**

العشرات	الآحاد
7	5
	3

15) أوجد الناتج في النموذج

- a) 78 b) 76 c) 79 d) 77

16) ما المجموعة التي توضح العد بالعشرات ؟

- a) 5, 10, 15, 20, 25
c) 2, 4, 6, 8, 10

- b) 10, 12, 14, 16, 18
d) 10, 20, 30, 40, 50

المئات	العشرات	الآحاد
		

؟

17) ما العدد الذي يوضحه النموذج

- a) 151 b) 115 c) 105 d) 150

18) 4 عشرات + 3 عشرات = _____ عشرات

- a) 1 b) 7 c) 6 d) 8

19) ما العدد المفقود في 58, 59, 60,, 62, 63 ؟

- a) 57 b) 65 c) 64 d) 61

20) يوجد 80 شخصاً في حفلة عيد الميلاد . 30 شخصاً منهم يشربون عصير التفاح .

كم عدد الأشخاص الذين لا يشربون عصير التفاح ؟

- a) 60 b) 40 c) 50 d) 30

السؤال الثاني

10

أولاً :

(21) قارن . اكتب > ، < ، = في

العشرات	الآحاد
6	5
3	2

65 32

ثانياً :

أوجد ناتج كل مما يأتي :

22)

$$\begin{array}{r} 53 \\ + 20 \\ \hline \end{array}$$

23)

$$\begin{array}{r} 90 \\ - 10 \\ \hline \end{array}$$

ثالثاً :

(24) لدى هند 3 شموع حمراء و 5 شموع زرقاء و 7 شموع برتقالية .

ما مجموع الشموع التي لدى هند ؟



(25) تخبز حصة 12 فطيرة يوميًا وتخبز ليلي 8 فطائر يوميًا .

كم عدد الفطائر التي تخبزها حصة أكثر من ليلي ؟



انتهت الأسئلة بالتوفيق والنجاح