

السؤال الاول : صل بين الكلمة والصورة المناسبة





- الفصل الذي تتفتح فيه الازهار

- الفصل الذي يكون فيه الطقس حارا

- الفصل الذي يكون نهاره قصيرا وتسقط الامطار  
والثلوج

- الفصل الذي تخزن فيه الحيوانات الغذاء

السؤال الثاني : ضع دائرة حول ما تراه ليلا



السؤال الثالث : في اي صورة تعتقد أن الجو أكثر دفئا ؟ ولماذا ؟



2



1

رقم 1 : أي إجابة معقولة تكون صحيحة ( يجب فيه الطالب حسب فهمه )

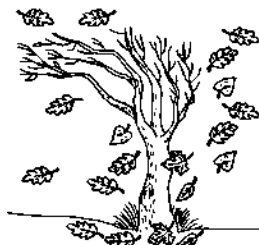
السؤال الرابع : رتب الفصول الاربعة ترتيبا صحيحا بداية من **فصل الربيع** :




4



1



3



2

الرؤية : تعليم ابتكاري لمجتمع معرفي ريادي عالمي

السؤال الخامس : ضع علامة ( v ) او ( x ) :

- 1- في فصل الربيع يرتدي الناس الملابس السميكة / الثقيلة ( x )
- 2- في فصل الصيف تكون السماء غائمة ( x )
- 3- نستخدم التلسكوب في مراقبة النجوم البعيدة في السماء ( v )
- 4- في فصل الشتاء يصبح النهار طويل ( x )
- 5- أحيانا يمكنك رؤية القمر في النهار ( v )
- 6- عندما تغرب الشمس يكون الجو حارا ( x )

السؤال السادس : صل بين كل صورة واسم الفصل المناسب:



الربيع	الشتاء	الخريف	الصيف
--------	--------	--------	-------