

استعد لاختبار الدراسات الاجتماعية

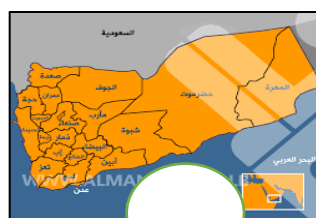
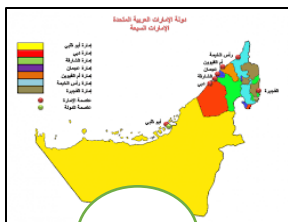
• أحوظ صورة الكرة الأرضية:



• أحوظ صور الخريطة:



• أضع علامة (/) تحت خريطة دولة الإمارات:



استعد لاختبار الدراسات الاجتماعية

• أحوظ الإجابة الصحيحة:

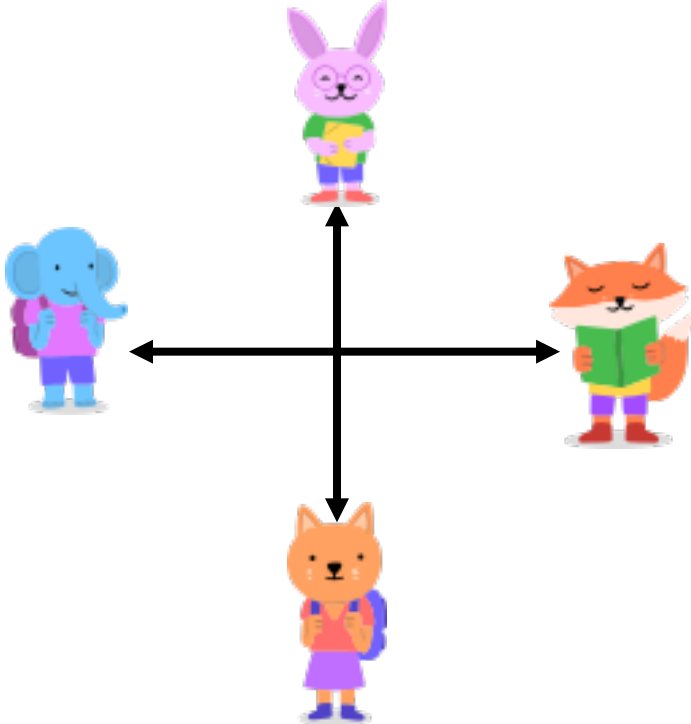
• ما الذي يساعدنا على الوصول إلى أي مكان نريد الذهاب إليه؟:






• ما الذي يساعدنا على معرفة الاتجاه الذي نسير فيه؟:



• أكتب اسم الجهة المناسبة لكل صورة: (شمال - جنوب - شرق - غرب)



.....	
.....	
.....	
.....	