

United Arab Emirates
Ministry of Education
Education Council 3 , Sector 4
Al Fujairah School for Basic Edu. c1



الإمارات العربية المتحدة
وزارة التربية والتعليم
المجلس التعليمي 3 . النطاق 4
مدرسة الفجيرة للتعليم الأساسي ح1

مراجعة

(مادة العلوم)

الفصل الدراسي الأول

الصف الأول



إعداد وتقديم المعلمتين: هيفاء سعيد و سارة محمد

العام الدراسي 2019/2018

السؤال الأول

حوط الإجابة الصحيحة:-

1- من الكائنات الحية :



2- لا يحتاجه النبات لينمو :



3- لا ينمو ولا يتغير :



4- ما الجذع:



5- ما البادرة :



6- جزء النبات الذي يصنع البذور :



7- من النباتات التي نأكل جذورها :



8- جزء من النبات يتحول إلى نبات جديد:



9- عندما تأكل جزء من جذع الشجرة فإنك تأكل :



10- ليست من الثمار :



11- جزء من النبات ينمو حوله البذور :



12- الجزء المسؤول عن تثبيت النبات في التربة:



13- من النباتات التي نأكل أوراقها :



14- له أقل عدد من البذور:



15- نبات يحتاج إلى الكثير من ضوء الشمس:



16- ليست من بذور النباتات:



17- تنتقل البذور في الطبيعة لتنمو في أماكن جديدة عن طريق :



18- المنطقة القطبية :



19- الغابات المطيرة :



20- يغطي جسمها الحراشف :



21- من الحشرات :





22- ليست من الثدييات:



23- يعيش في الماء واليابسة:



24- لا تتنفس عن طريق الرئتين:



25- من الزواحف:



26- ليست من الحشرات:



27- لها خياشيم:



28- ليست من آكلات النباتات:



29- بما تختلف البقرة والنمر:

يغطيها الشعر

نوع الأسنان

مجموعة الثدييات

30- لا يحتاج إلى الكثير من الماء :




31- يغطي جسمه الريش:



32- لها أسنان مستوية لمضغ الطعام :



33- ما الجزء المسؤول عن صنع الغذاء للنبته :



34- من النباتات ويحتاج إلى الكثير من الماء :



35- كيف تساعد أجزاء نباتات المنطقة القطبية في البقاء على قيد الحياة:

تخزن كمية كبيرة
من الماء

جذورها تنمو قريباً
من سطح الأرض

تتخلص من الماء
الزائد

36- أي مما يلي غير صحيح بخصوص الأسماك:

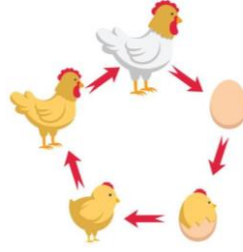


لها رنتان

لها قشور

لها زعانف

37- انظر إلى هذه الصورة؟ ما الذي يحدث في الصورة :



ماذا تأكل الدجاجة

دورة حياة الدجاجة

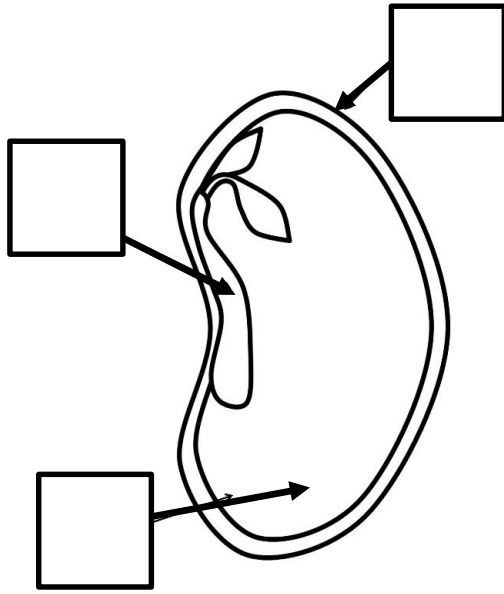
عائلة الدجاجة

السؤال الثاني

1) ضع مربعاً حول 3 كائنات حية. وضع دائرة حول 3 كائنات غير حية



(2) أكتب الرقم الصحيح لأجزاء البذرة في مكانها المناسب





1. الغلاف الخارجي

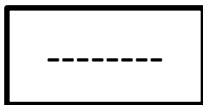
2. البادرة

3. غذاء البذرة


(3) رتب بتسلسل من 1 إلى 5 مراحل دورة حياة الضفدع



(4) رتب بتسلسل من 1 إلى 4 مراحل دورة حياة النبات



(5) صل بخط مستقيم بين الحيوان والمجموعة التي ينتمي إليها :



البرمائيات

الحشرات

الثدييات

الأسماك

الطيور

الزواحف


(6) اكتب رقم أجزاء الزهرة 1 و 2 و 3 و 4 في مكانها الصحيح :

1 - الجذور

2 - الساق

3 - الأوراق

4 - الزهرة



United Arab Emirates
Ministry of Education
Education Council 3 , Sector 4
Al Fujairah School for Basic Edu. c1



الإمارات العربية المتحدة
وزارة التربية والتعليم
المجلس التعليمي 3 . النطاق 4
مدرسة الفجيرة للتعليم الأساسي ح 1

حل مراجعة

(مادة العلوم)

الفصل الدراسي الأول

الصف الأول



إعداد وتقديم المعلمتين: هيفاء سعيد و سارة محمد

العام الدراسي 2019/2018


السؤال الأول

حوط الإجابة الصحيحة:-

1- من الكائنات الحية :



2- لا يحتاجه النبات لينمو :



3- لا ينمو ولا يتغير :



4- ما الجذع:



5- ما البادرة :



6- جزء النبات الذي يصنع البذور :



7- من النباتات التي نأكل جذورها :



8- جزء من النبات يتحول إلى نبات جديد:



9- عندما تأكل جزء من جذع الشجرة فإنك تأكل :



10- ليست من الثمار :



11- جزء من النبات ينمو حوله البذور :



12- الجزء المسؤول عن تثبيت النبات في التربة:



13- من النباتات التي نأكل أوراقها :



14- له أقل عدد من البذور:



15- نبات يحتاج إلى الكثير من ضوء الشمس:



16- ليست من بذور النباتات:



17- تنتقل البذور في الطبيعة لتنمو في أماكن جديدة عن طريق :



18- المنطقة القطبية :



19- الغابات المطيرة :



20- يغطي جسمها الحراشف :



21- من الحشرات :





22- ليست من الثدييات :



23- يعيش في الماء واليابسة :



24- لا تتنفس عن طريق الرئتين:



25- من الزواحف:



26- ليست من الحشرات:



27- لها خياشيم:



28- ليست من آكلات النباتات:



29- بما تختلف البقرة والنمر:

يغطيها الشعر

نوع الأسنان

مجموعة الثدييات

30- لا يحتاج إلى الكثير من الماء :



31- يغطي جسمه الريش:



32- لها أسنان مستوية لمضغ الطعام :



33- ما الجزء المسؤول عن صنع الغذاء للنبته :



34- من النباتات ويحتاج إلى الكثير من الماء :



35- كيف تساعد أجزاء نباتات المنطقة القطبية في البقاء على قيد الحياة:

تخزن كمية كبيرة
من الماء

جذورها تنمو قريباً
من سطح الأرض

تتخلص من الماء
الزائد

36- أي مما يلي غير صحيح بخصوص الأسماك:

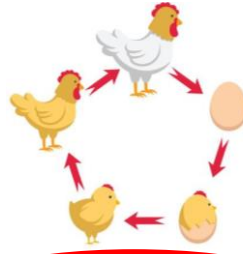


لها رنتان

لها قشور

لها زعانف

37- انظر إلى هذه الصورة ؟ ما الذي يحدث في الصورة :




ماذا تأكل الدجاجة

دورة حياة الدجاجة

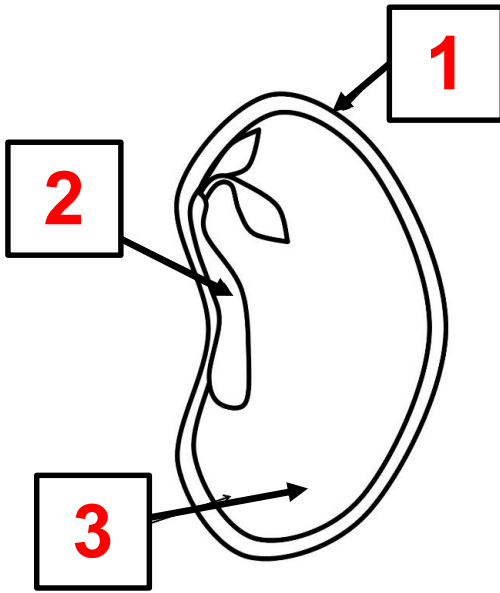
عائلة الدجاجة

السؤال الثاني

1) ضع مربعاً حول 3 كائنات حية. وضع دائرة حول 3 كائنات غير حية



(2) أكتب الرقم الصحيح لأجزاء البذرة في مكانها المناسب




1. الغلاف الخارجي

2. البادرة

3. غذاء البذرة

(3) رتب بتسلسل من 1 إلى 5 مراحل دورة حياة الضفدع



2

5

3

4

1

(4) رتب بتسلسل من 1 إلى 4 مراحل دورة حياة النبات




3

4

1

2

(5) صل بخط مستقيم بين الحيوان والمجموعة التي ينتمي إليها :



البرمائيات الحشرات الثدييات الأسماك الطيور الزواحف

(6) اكتب رقم أجزاء الزهرة 1 و 2 و 3 و 4 في مكانها الصحيح :

- 1 - الجذور
- 2 - الساق
- 3 - الأوراق
- 4 - الزهرة

