

الاسم :


الشعبة :

الوحدة 4 : كل ما يتعلق بالحيوانات

السؤال الأول: صل كل مجموعة بالحيوان الذي ينتمي إليها

	<input type="radio"/>	<input type="radio"/>	ثدييات
	<input type="radio"/>	<input type="radio"/>	طيور
	<input type="radio"/>	<input type="radio"/>	زواحف
	<input type="radio"/>	<input type="radio"/>	برمائيات
	<input type="radio"/>	<input type="radio"/>	أسماك
	<input type="radio"/>	<input type="radio"/>	حشرات

السؤال الثاني : صنف الحيوانات التالية في الجدول التالي (اكتب حرف الصورة)





المجموعة	ثدييات	طيور	زواحف	برمائيات	أسماك	حشرات
الحيوان						

السؤال الثالث : حوِّط ما يحتاج إليه هذا العصفور ليعيش





السؤال الرابع: حوِّط على الإجابة الصحيحة

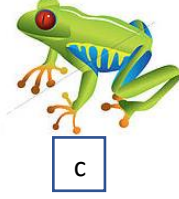
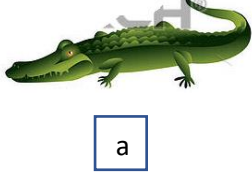
1. حيوان لا ينتمي إلى الحشرات





2. حيوان من الثدييات



3. حيوان من البرمائيات




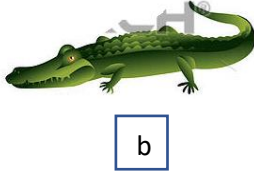
4. حيوان من الطيور




5. حيوان من الزواحف



6. حيوان من الأسماك



7. حيوان من الحشرات



8. حيوان له زعانف



a



b



c

9. حيوان يغطي جسمه الحرشف



a



b



c

10. حيوان يغطي جسمه الريش



a



b



c

11. حيوان يغطي جسمه القشور



a



b



c

12. حيوان له شعر



a



b



c

13. حيوان عدد أرجله ستة



a



b



c

14. حيوان يتكاثر بالولادة



a



b



c

15. حيوان يتكاثر بالبيض



a



b



c

16. حيوان يتنفس بالخياشيم



a



b



c

17. حيوان عدد أجزاء جسمه ثلاثة



a



b



c

18. حيوان من الثدييات



a



b



c

19. حيوان جلده ناعم ورطب



a



b



c

20. حيوان جلده جاف وخشن



a



b



c

21. حيوان يأكل بمنقاره



a



b



c

22. حيوان أكل العشب



a



b



c

23. حيوان أكل اللحوم



a



b



c


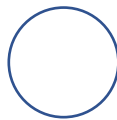

السؤال الخامس: أكمل الجدول : كيف تلبي الحيوانات التالية احتياجاتها

المنقار	المخالب	الرتتان	الخياشيم
---------	---------	---------	----------





الحيوان	الصقر	اللبوة	الدولفين	الأسماك
جزء من جسمه				

السؤال السادس: رتب بالتسلسل دورة حياة الحيوانات التالية

A. دورة حياة الثدييات (الباندا)



B. دورة حياة الطيور (الدجاجة)



C. دورة حياة الحشرات (الفراشة)

