


## تلخيص الوحدة الثانية : الدرس الأول (تعرف على الكائنات الحية)

# ضع إشارة ( √ ) أمام العبارات الصحيحة وإشارة ( x ) أمام العبارات الخاطئة :

1. الكائنات الحية تنمو وتتغير ( )
2. تحتاج النباتات إلى الماء فقط ( )
3. الطاولة والكرسي من الكائنات الحية ( )
4. الكائنات غير الحية لا تنمو ولا تتغير ( )
5. لا يحتاج نبات دوار الشمس إلى الكثير من ضوء الشمس لكي يعيش ( )
6. يحتاج نبات الأرز إلى الكثير من الماء ليبقى على قيد الحياة ( )
7. يحتاج نبات الصبار إلى الكثير من الماء ليبقى على قيد الحياة ( )

# أي مما يلي لا يحتاج إليه النبات :



# أي مما يلي يحتاج إليه النبات :



# أي مما يلي يعتبر من الكائنات الحية .

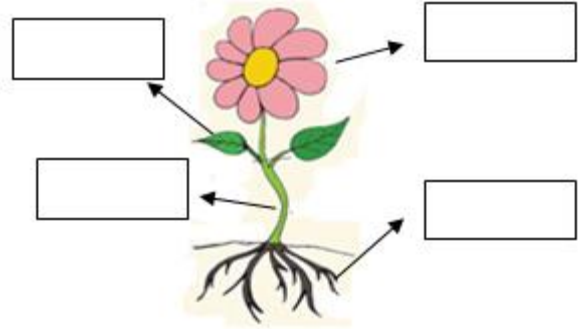
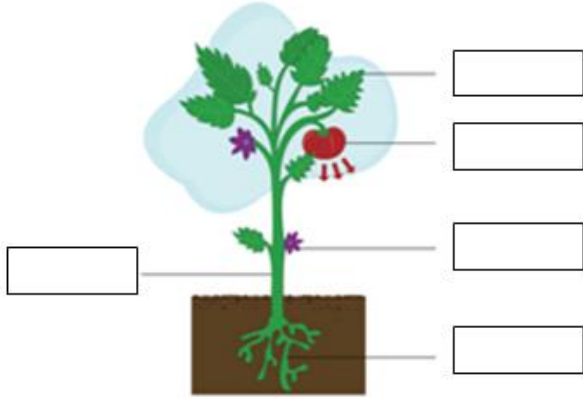


الوحدة الثانية : تلخيص درس الثاني ( أجزاء النباتات )

# أذكر أجزاء النبتة الرئيسية ؟

1. .... 2. .... 3. ....

# ضع على الرسم أجزاء النبتة ( ساق - ورقة - زهرة - جذور ) :



# حوِّط جزء النبات الذي يدل على الأوراق :



# حوِّط جزء النبات الذي يدل على الساق :



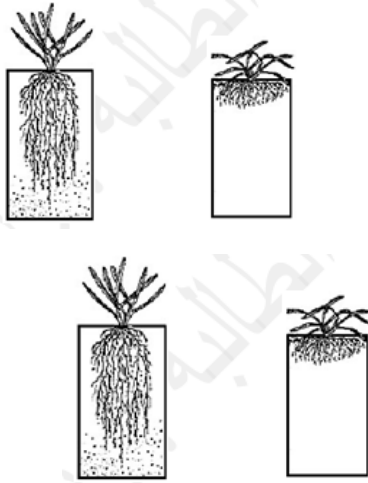
# حوِّط جزء النبات الذي يدل على الجذور :



# ضع إشارة ( v ) أمام العبارات الصحيحة وإشارة ( x ) أمام العبارات الخاطئة :

1. الجذور تثبت النبات في الأرض ( )
2. الأوراق تستخدم ضوء الشمس والهواء لصنع الغذاء ( )
3. ينتقل الغذاء والماء عن طريق الزهرة إلى الأجزاء الأخرى ( )
4. النباتات تستطيع صنع غذاءها بنفسها ( )

# أي صورة تدل على جذور قريبة من سطح الأرض :



# أي صورة تدل على جذور طويلة وعميقة :

# اختر الإجابة الصحيحة فيما يلي :

- 1) النباتات لها ..... تمتص الماء من التربة .  
أ. أوراق  
ب. جذور  
ج. ساق
- 2) تحصل النباتات على ..... من التربة :  
أ. المواد الغذائية  
ب. الثمار  
ج. الضوء
- 3) تقوم ..... بحمل النبات :  
أ. الأوراق  
ب. الجذور  
ج. الساق
- 4) تقوم ..... بتهيئة النبات في الأرض :  
أ. الأوراق  
ب. الجذور  
ج. الساق



### الوحدة الثانية : تلخيص الدرس الثالث ( نباتات مختلفة )

# ضع إشارة ( v ) أمام العبارات الصحيحة وإشارة ( x ) أمام العبارات الخاطئة :

1. كل النباتات متشابهه ( )
2. يسمى ساق النبات السميكة باسم الجذع ( )
3. يعتبر العشب من النباتات المرتفعة ( )
4. نستطيع أكل ثمار النباتات فقط ( )
5. الجزر يعتبر جذر نبتة نستطيع أكله ( )

### # اختر الإجابة الصحيحة فيما يلي :

- 1) عندما تأكل جوز الهند فإنك تأكل ..... نبتة.  
أ. أوراق                      ب. بذرة                      ج. ساق
- 2) عندما تأكل القرعة فإنك تأكل جزءاً من ..... نبتة.  
أ. أوراق                      ب. بذرة                      ج. ساق
- 3) عندما تأكل الخس فإنك تأكل ..... نبتة.  
أ. أوراق                      ب. جذور                      ج. ساق
- 4) عندما تأكل الجزر فإنك تأكل ..... نبتة:  
أ. أوراق                      ب. جذور                      ج. ساق
- 5) أي جزء من أجزاء النبات يحمل النبتة :  
أ. الأوراق                      ب. الجذور                      ج. الساق