



TRAINING




المعلم عمر حسن إبراهيم عطا الله
مادة الدراسات الاجتماعية

سنة هجرية سعيدة
1441



الدراسات الاجتماعية

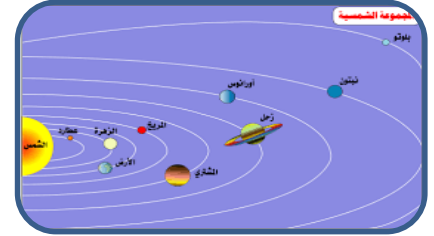


ALhayer



أنظر ... تأمل ... فكر ... ثم صل بين الصور التي تدل على الأشياء المتماثلة ؟

السؤال 1



Omar atallah




من حقي أن أعيش في بيئة تحافظ على المياه أنظر الصورة ثم حوِّط برسم أربع دوائر من السلوكيات التي تساعدك على المحافظة على المياه




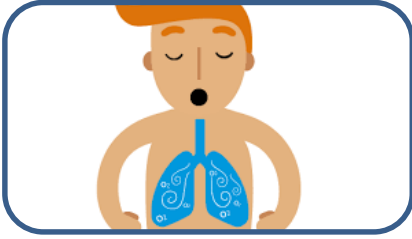
أكتب عبارة تشجع فيها زملائك على الحفاظ على المياه

السؤال 2.2



Omar atallah







من حقي أن أعيش في بيئة متكاملة أنظر الصورة ثم حوط برسم أربع دوائر
من الصور التي تشكل الكائنات الحية

السؤال 4



Omar atallah



من حقي أن أعيش في بيئة متكاملة أنظر الصورة ثم حوط برسم أربع دوائر
من الصور التي تشكل الكائنات الغير حية الحية

السؤال 5



Omar atallah




أنظر ... تأمل ... فكر ... ثم صل بين الصور التي تدل على الأشياء المتماثلة ؟

السؤال 6



أكتب عبارة تشجع فيها زملائك على الحفاظ على البيئة من التلوث

السؤال 6.2



Omar atallah

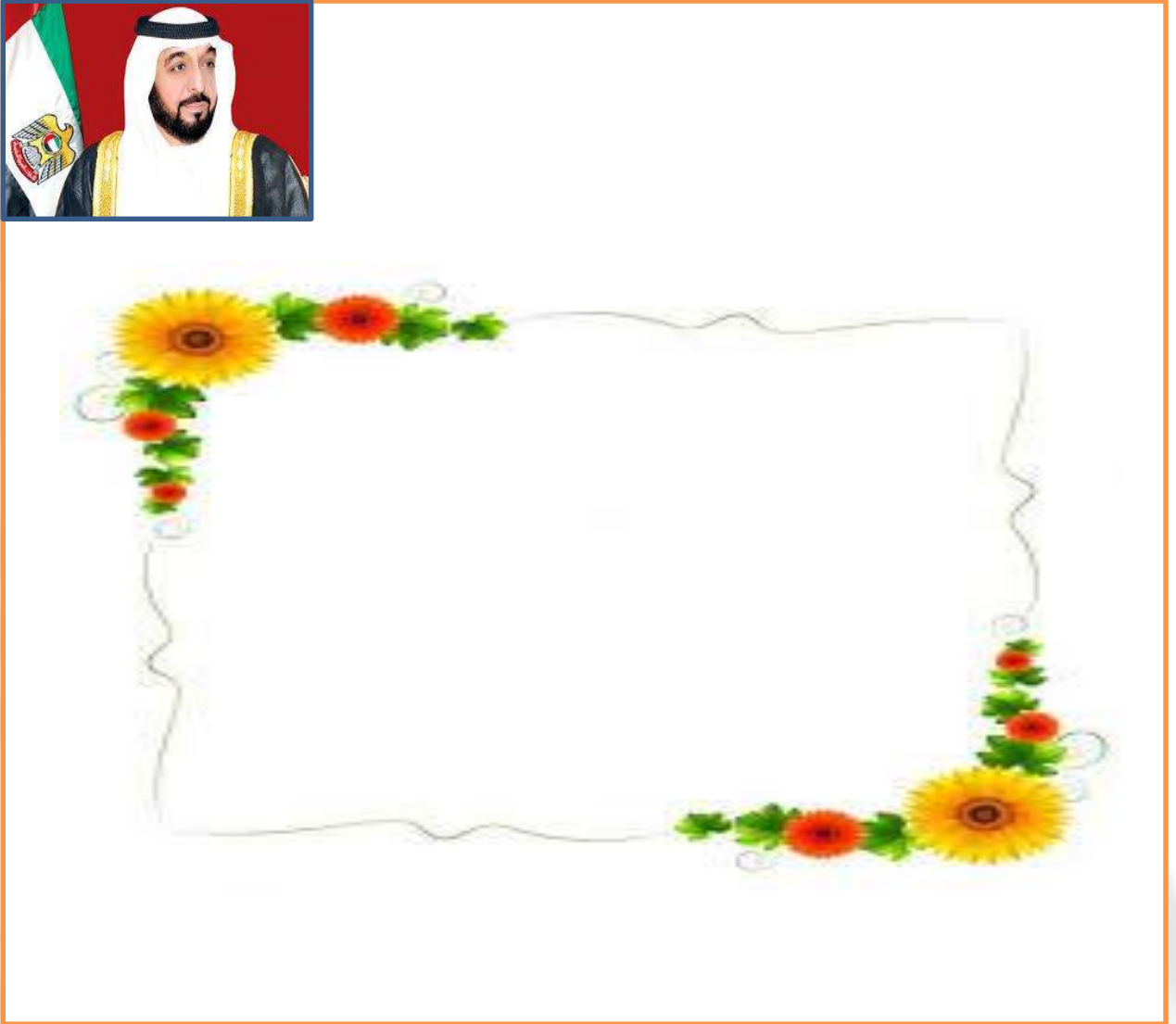


من حقي أن أعيش في بيئة نظيفة أنظر الصورة ثم حوط برسم أربع دوائر
من الصور التي تشكل السلوكيات التي تسبب التلوث



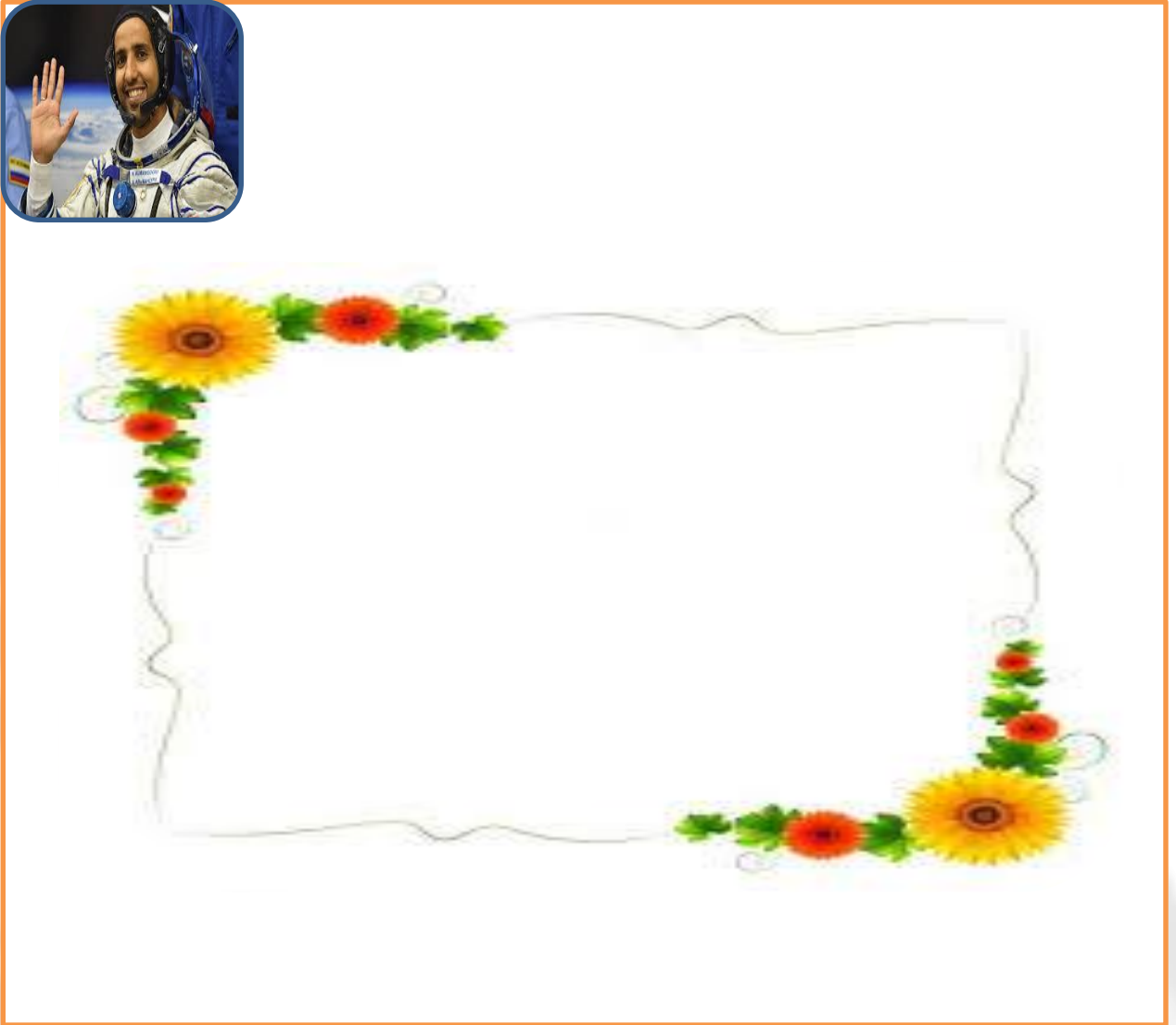
أنظر ... تأمل ... فكر ... ثم صل بين الصور التي تدل على الأشياء المتماثلة ؟





Omar atallah





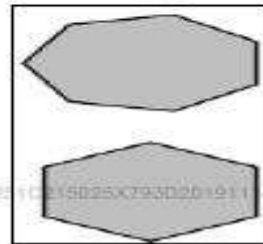
أنظر ... تأمل ... فكر ... ثم صل بين الصور التي تدل على الأشياء المتماثلة ؟



من حقي أن أعيش في بسلام أنظر الصورة ثم حوظ برسم أربع دوائر من الصور التي تشكل السلوكيات الصحيحة



أنظر ... تأمل ... فكر ... ثم صل بين الصور التي تدل على الأشياء المتماثلة ؟



من حقي أن أعيش في سلام أنظر الصورة ثم حوِّط برسم خمس دوائر من السلوكيات التي تساعدك على العيش في بيئة نظيفة



ثالثاً: أكتب عبارة تشجع بها الآخرين على حماية البيئة، للحفاظ عليها.







(من مواليد 1961-3-11 عام)، ولي عهد أبوظبي ونائب القائد الأعلى للقوات المسلحة ورئيس المجلس التنفيذي لإمارة أبوظبي وهو الابن الثالث من أبناء الشيخ زايد بن سلطان ووالدته هي الشيخة فاطمة بنت مبارك الكتبي نشأ في كنف والده وأمه . هو متزوج من الشيخة سلامة بنت حمدان آل نهيان وله تسعة أبناء. وقد أكمل تعليمه النظامي في الإمارات ثم المملكة المتحدة وتخرج من أكاديمية ساند هيرست الملكية عام 1979. واشتمل تدريبه العسكري على دورة دروع تأسيسية ودورة طيران تأسيسية وتحويل طائرات عمودية وطيران تكتيكي ودورة مظليين. وفي عام 2004 أصبح ولي للعهد

@ النص يتحدث عن الشيخ

- A) زايد رحمه الله B) محمد بن زايد C) خليفة بن زايد D) محمد بن راشد

@ والد الشيخ محمد هو الشيخ

- A) زايد رحمه الله B) محمد بن زايد C) خليفة بن زايد D) محمد بن راشد

@ والدة الشيخ محمد هي الشيخة

- A) فاطمة الكتبي B) فاطمة المشغوني C) سلامة بنت بطي D) هند آل مكتوم

@ الشيخ محمد بن زايد حالياً

- A) ولي عهد دبي B) نائب رئيس الدولة C) ولي عهد أبوظبي D) ولي عهد عجمان

@ ولد الشيخ محمد بن زايد عام

- A) 1971 B) 1961 C) 1981 D) 1951





العلاقات مع مصر

7

موقفه من التعليم

1

الرعاية الصحية

2

موقفه من اليمن

3

يوم الشهيد

4

العلاقات مع
روسيا

5


العلاقات مع
الولايات المتحدة

6



سيدي محمد بن زايد حفظه الله حوط على الصور التي لها علاقة بالشيخ محمد بن زايد








فأت دولة الإمارات العربية المتحدة
 في يوم من أيام التاريخ..تم إعلان الدولة السعودية وتم ١٨
 دولة مستقلة ذات سيادة من ضمن الوطن العربي الكبير.. خمس حقوق وعبريات شجيرة
زايد رئيساً للإتحاد.. راشد نائباً للرئيس
 تعيين الشيخ مكيوم بن راشد رئيساً لمجلس الوزراء الاتحادي
 والقائم بامور رئاسة الإمارات المتحدة.. واست لانشاد ايزان بحسب خبر من الوطن العربي



في الاتحاد قوة وفي الاختلاف ضعف حوط حول الصورة التي ترتبط في دولة الإمارات والاتحاد





United Arab Emirates
Ministry of Education




الإمارات العربية المتحدة
وزارة التربية والتعليم



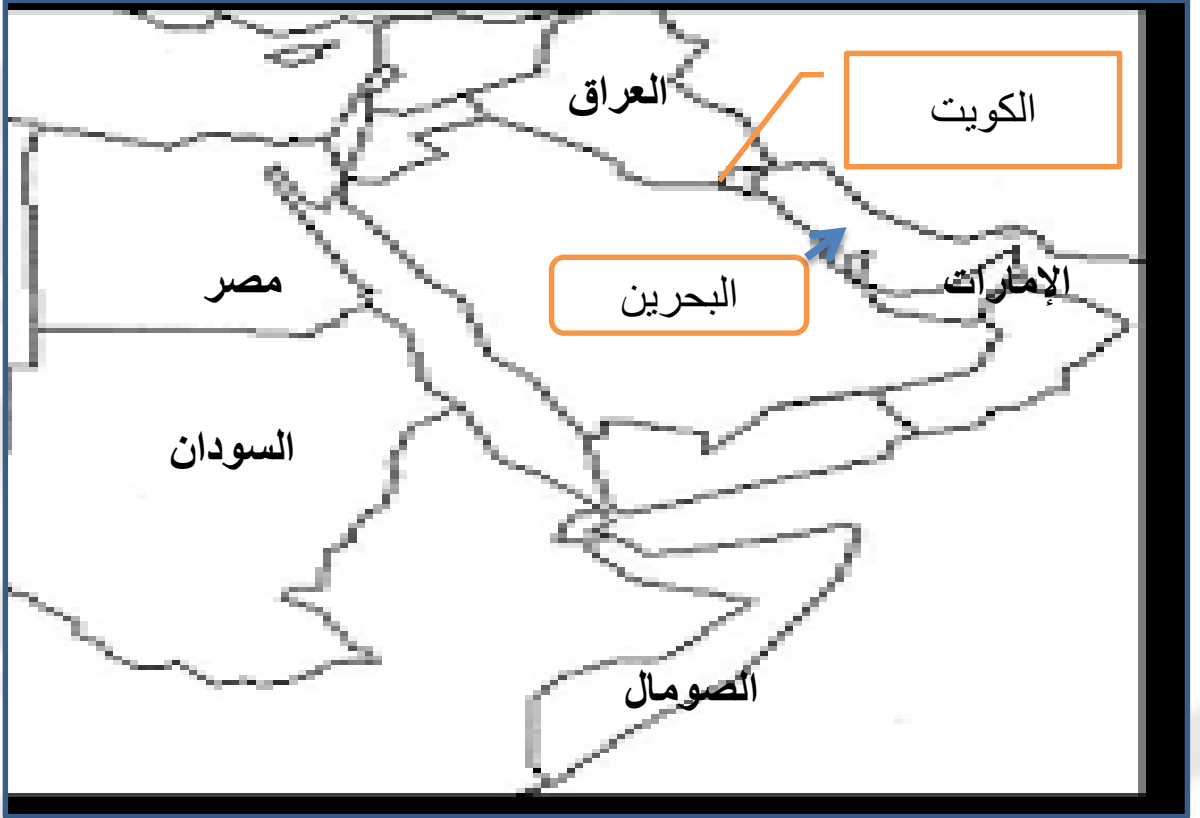
هناك العديد من الوسائل التي تضع شعار الدولة عليها حوط حول الصور التي تعتمد شعار الدولة





السؤال 17.1: ضلل الدول التي زارها سيف بن غباش؟

الكويت - البحرين - العراق - مصر - الإمارات




Omar atallah



أقسم بالله العظيم أن أكون مخلصاً للإمارات العربية المتحدة وأن أحترم دستورها وقوانينها وأن أرى مصالح شعب الاتحاد، وأن أؤدي واجبي بأمانة وإخلاص أحافظ على استقلال الاتحاد وسلامة أراضيه.

السؤال 18



لمن ستكون مخلص كما ورد في اليمن الدستوري



A	للمال	B	الشعب	C	دولة الإمارات	D	العين
---	-------	---	-------	---	---------------	---	-------



نحافظ على سلامة الوطن من خلال المال العام

A	نهب	B	الحفاظ	C	السرقه	D	التبذير
---	-----	---	--------	---	--------	---	---------



الصورة في النص التي تحمل رقم (1) تشير إلى اختيار الاتحاد لـ

A	رئيس	B	نائب رئيس	C	شعار	D	علم
---	------	---	-----------	---	------	---	-----



الصورة في النص التي تحمل رقم (2) تشير إلى اختيار الاتحاد لـ

A	رئيس	B	نائب رئيس	C	شعار	D	علم
---	------	---	-----------	---	------	---	-----



الصورة في النص التي تحمل رقم (3) تشير إلى اختيار الاتحاد لـ

A	رئيس	B	نائب رئيس	C	شعار	D	علم
---	------	---	-----------	---	------	---	-----



الصورة في النص التي تحمل رقم (4) تشير إلى اختيار الاتحاد لـ

A	رئيس	B	نائب رئيس	C	شعار	D	علم
---	------	---	-----------	---	------	---	-----



علم الإمارات العربية المتحدة، اعتمد بتاريخ الثاني من ديسمبر العام 1971، حيث رفعه المغفور له بإذن الله، الشيخ زايد بن سلطان آل نهيان، رحمه الله، بين يديه في اليوم نفسه، معلناً إياه علماً لدولة الإمارات المتحدة، كدولة مستقلة ذات سيادة. ويتضمن العلم الوطني الألوان الأحمر والأخضر والأبيض والأسود، التي ترمز للوحدة العربية. وعرضه نصف طوله. وقد صممه في ذلك الوقت شاب إماراتي اسمه عبد الله محمد المعينة وهذا العلم يتوسط شعار الدولة الذي يمثله طائر الصقر



اعتمد الشيخ زايد علم الإمارات في عام


1971	D	1972	C	1970	B	1973	A
------	---	------	---	------	---	------	---




مصمم العلم هو معالي محمد المعينة

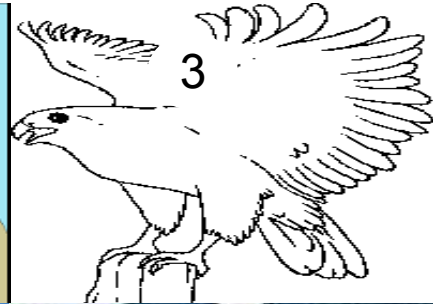
عمر	D	موسى	C	خالد	B	عبدالله	A
-----	---	------	---	------	---	---------	---

لون العلم الذي يدل على علم الإمارات



أي من الصور التالية تدل على شعار الدولة






(الصورة التي تتعلق بقرارات الاتحاد ذات الأرقام)
 (الصور التي لا تتفق مع قرارات الاتحاد ذات الأرقام)


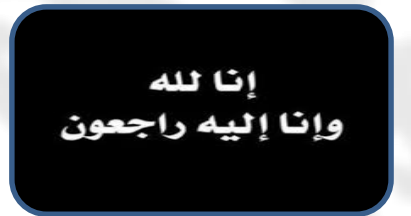
Omar atallah





تمتع الشيخ زايد بالعديد من المواهب حو ط الصور التي تدل على هوايات ومواهب الشيخ زايد رحمه الله





1918



2004

1946

1966
THE YEAR 1966

الشيخ زايد بن سلطان بن زايد بن خليفة بن شخبوط بن ذياب بن عيسى بن نهيان آل نهيان أول رئيس لدولة الإمارات العربية المتحدة. ولد في عام 1918 في قصر الحصن في أبوظبي كان له دور كبير في توحيد الدولة مع الشيخ راشد بن سعيد آل مكتوم وتحقق لهم ذلك في 2 ديسمبر 1971 , عرف عنه الشجاعة والقوة وحب الفروسة والصيد بالصقور توفي رحمه الله في شهر رمضان المبارك 2/11/2004

1 اختار اسم الشخصية الموجودة في الصورة هو الشيخ

A

محمد

B

زايد

C

راشد

2 أين ولد بطلنا ومتى

A

العين 1918

B

أبو ظبي 1918

C

دبي 1918

3 ولد في قصر

A

الحصن العين

B

المويجي

C

الحصن أبو ظبي

4 كان لبطلنا دور كبير في الدولة

A

توحيد

B

انقسام

C

ضياع

5 ما القيم التي تعلمها من شخصية الشيخ زايد رحمه الله أكتب ثلاثة

A

B

C

6 أكتب كلمة شكر للشيخ زايد رحمه الله

A

.....
.....
.....





عدد الأوراق
5



الاسم : الصف

الدرجة

التاريخ : 5-6/11 /2019

20


تعليق المعلم على النتائج				
لم تجتاز	اجتاز	مقبول	جيد	متميز
تعليق ولي الأمر والتوقيع :				
.....				
.....				



المعلم عم حسن إبراهيم عطا الله
مادة الدراسات الاجتماعية



الدراسات الاجتماعية



ALhayer



(من مواليد 1961-3-11عام)، ولي عهد أبوظبي ونائب القائد الأعلى للقوات المسلحة ورئيس

المجلس التنفيذي لإمارة أبوظبي وهو الابن الثالث من أبناء الشيخ زايد بن سلطان ووالدته هي الشيخة فاطمة بنت مبارك الكتيبي نشأ في كنف والده وأمه . هو متزوج من الشيخة سلامة بنت حمدان آل نهيان وله تسعة أبناء. وقد أكمل تعليمه النظامي في الإمارات ثم المملكة المتحدة وتخرج من أكاديمية ساند هيرست الملكية عام1979. واشتمل تدريبه العسكري على دورة دروع تأسيسية ودورة طيران تأسيسية وتحويل طائرات عمودية وطيران تكتيكي ودورة مظليين. وفي عام 2004 أصبح ولي للعهد

1961⁵



1- استخراج من الشكل الصورة التي تدل على الشخصية المقصودة في النص من خلال وضع الرقم المناسب في الربع المرفق ؟ كتابة الاسم

2- استخراج من الشكل الصورة التي تدل على شخصية والد الشيخ محمد بن زايد من خلال وضع الرقم المناسب في الربع المرفق ؟ كتابة الاسم

3- استخراج من الشكل الصورة التي تدل على تاريخ ميلاد الشيخ محمد بن زايد من خلال وضع الرقم المناسب في الربع المرفق ؟ وكتابة التاريخ

4- استخراج من النص الموجود في أعلى الصفحة اسم الكلية التي تخرج منها الشيخ محمد بن زايدوسجل رقم الصورة التي تمثل عملية

التخرج



5- استخراج من النص السابق اسم والدة الشيخ محمد بن زايد

لدولة الإمارات العربية المتحدة علاقات جيدة مع كثير من دول العالم وهذه العلاقات جاءت من خلال صاحب السمو الشيخ زايد رحمه الله الذي رسخ العدل والمساواة والعلاقات الطيبة مع العالم وأكمل المسيرة صاحب السمو الشيخ خليفة بن زايد وصاحب السمو الشيخ محمد بن زايد , ومن هذه العلاقات الجيدة العلاقة مع مصر والولايات المتحدة

6- أي من الصور التي تمثل العلاقات مع مصر أكتب الرقم في المربع

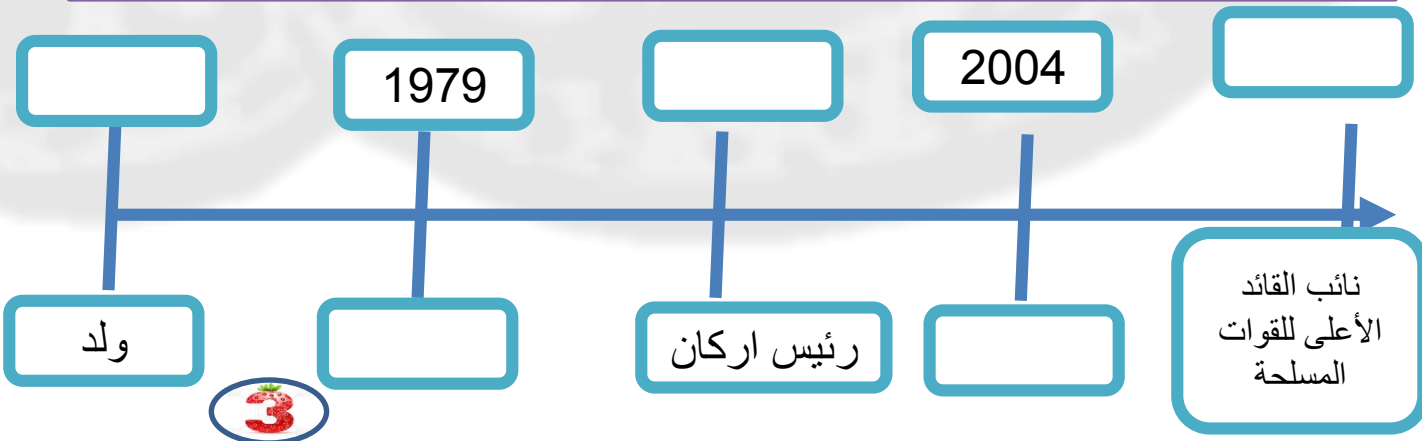


7- أي من الصور التي تمثل العلاقات مع الولايات المتحدة أكتب الرقم في المربع



وُلد الشيخ محمد بن زايد في 11 مارس **1969** وتخرج من ساند هيرست عام **1979** ليصبح رئيس الأركان في عام **1993** ومن ثم ولي للعهد عام **2004** ونائب للقائد الأعلى للقوات المسلحة عام **2005**

8- رتب التواريخ التالية وفق الخط الزمني من الأقل إلى الأكبر



9- ضلل المربع الذي يمثل دلالة الصورة التالية



يوم العلم

يوم الشهيد

شعار الدولة

علم الدولة



يوم العلم

يوم الشهيد

شعار الدولة

علم الدولة



يوم العلم

شعار حديث

شعار قديم

علم الدولة



يوم العلم

يوم الشهيد

شعار الدولة

علم الدولة



الرئيس الحالي

أول رئيس

ولي عهد

نائب الرئيس



الرئيس الحالي

أول رئيس

ولي عهد

نائب الرئيس



الاهتمام بالصحة

الاهتمام بالتعليم

الاهتمام بالبيئة

المناسبات



الرئيس الحالي

أول رئيس

ولي عهد

نائب الرئيس



حكيم

سياسي

عسكري

رياضي



الرئيس الحالي

أول رئيس

ولي عهد

نائب الرئيس



14- استخرج من الشكل الصورة التي تدل على الخطوة الأولى في قيام الاتحاد أكتب الرقم في المربع . مع كتابة اسم الخطوة

15- استخرج من الشكل الصورة التي تدل على الخطوة الثانية في قيام الاتحاد أكتب الرقم في المربع . مع كتابة اسم الخطوة

16- استخرج من الشكل الصورة التي تدل على الخطوة الثالثة في قيام الاتحاد أكتب الرقم في المربع . مع كتابة اسم الخطوة

17- استخرج من الشكل الصورة التي تدل على العيد الوطني القادم أكتب الرقم في المربع . مع كتابة الرقم

18 - استخرج من الشكل الصورة التي تدل على تاريخ قيام الاتحاد أكتب الرقم في المربع . مع كتابة التاريخ

19- استخرج من الشكل الصورة التي تدل على رفع العلم أكتب الرقم في المربع . مع كتابة اسم الخطوة



20- استخرج قيمة سلوكية واحدة من الصورة التالية

5

.....