

المادة : علوم

التاريخ : / / 2019



دولة الإمارات العربية المتحدة
دائرة التعليم والمعرفة
مدرسة الرؤية الخاصة





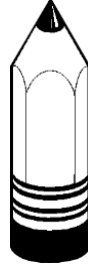
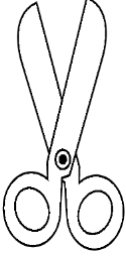
الموضوع : المغناطيس

العام الدراسي 2018-
2019

الصف: الأول الشعبة:

ورقة عمل رقم ()

صل الأشياء التي يجذبها المغناطيس ؟



السؤال الثاني : ضع اشارة صح أمام العبارة الصحيحة و اشارة خطأ أمام الخاطئة :

- المغناطيس نوع من الحديد . ()
- للمغناطيس أشكال وألوان مختلفة ()
- يجذب المغناطيس الأجسام المصنوعة من البلاستيك . ()

المادة : علوم

التاريخ : / / 2019



دولة الإمارات العربية المتحدة
دائرة التعليم والمعرفة
مدرسة الرؤية الخاصة

الموضوع : المغناطيس
معلمة المادة : صفاء خير

العام الدراسي 2018-
2019

الصف: الأول الشعبة:
ورقة عمل

1 / حوط الأجسام التي يجذبها المغناطيس :



4 / ضع علامة (✓) أو (x) أمام العبارة المناسبة:


1. يجذب المغناطيس الأشياء المصنوعة من حديد ()

2. القوة هي الدفع فقط ()

3. المغناطيس له أشكال وألوان مختلفة ()

4. المغناطيس هو نوع من الحديد ()

5. تتحرك الأجسام بشكل منحن فقط ()



5 / أرسم

A. مغناطيس حذوه الحصان .

B. مغناطيس مستقيم .

C. حدد اتجاهات المغناطيس

N

S

D. حدد موقع قوة الجذب .

E. حدد لون كل اتجاه .

A

B