



#عام التسامح - 2019



الاسم : الصف: الثالث () التاريخ : / / 2019

الهدف العام : الصورة والخريطة ؟

النشاط الأول : ضع دائرة على رمز الإجابة الصحيحة ؟

يطلب منك موظف الجوازات				
A	صورة	B	مجسم	C
	خريطة			

عندما نرسم الإمارات نقول عنها				
A	صورة	B	خريطة	C
	بناء			

هي نسخة طبق الأصل من الواقع				
A	البوصلة	B	الخريطة	C
	الصورة			

الصورة والخريطة تعرفنا على				
A	الشخص	B	المكان	C
	A.B			

النشاط الثاني فرق بين الصورة والخريطة فيما يلي بكتابة كلمة صورة أو خريطة ؟





#عام التسامح - 2019



الاسم : الصف: الثالث () التاريخ : / / 2019

الهدف العام : الصورة والخريطة ؟

النشاط الأول : ضع دائرة على رمز الإجابة الصحيحة ؟

يطلب منك موظف الجوازات				
A	صورة	B	مجسم	C
				خريطة

عندما نرسم الإمارات نقول عنها				
A	صورة	B	خريطة	C
				بناء

النشاط الثاني : اكتب الكلمة المناسبة مقابل التعريف (صورة - خريطة)

- هي رسم مصغر ومبسط للظواهر على سطح الأرض
- هي نسخة طبق الأصل من الحقيقة

النشاط الثالث : فرق بين الصورة والخريطة فيما يلي بكتابة كلمة صورة أو خريطة ؟





#عام التسامح - 2019



الاسم : الصف: الثالث () التاريخ : / / 2019

الهدف العام : الصورة والخريطة ؟

النشاط الأول : ضع دائرة على رمز الإجابة الصحيحة ؟

يطلب منك موظف الجوازات				
A	صورة	B	مجسم	C
				خريطة

النشاط الثاني : اكتب الكلمة المناسبة مقابل التعريف

- هي رسم مصغر ومبسط للظواهر على سطح الأرض
- هي نسخة طبق الأصل من الحقيقة

النشاط الثالث : علل لماذا نحتاج للصورة والخريطة ؟

.....

النشاط الثالث : فرق بين الصورة والخريطة فيما يلي بكتابة كلمة صورة أو خريطة ؟





#عام التسامح - 2019



الاسم : الصف: الثالث () التاريخ : / / 2019






الهدف العام : عناصر الخريطة ؟

السؤال : عزيز النجيب اكتب تحت الصورة العنصر الذي يمثلها من عناصر الخريطة ؟




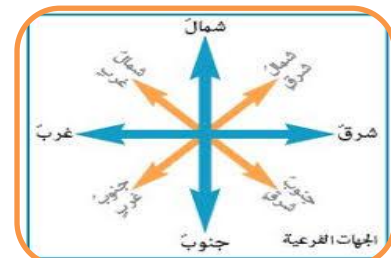
رموز طبيعية	رموز صناعية	رموز طبيعية	رموز صناعية
جبال	L	خط سفوح	▲
هضاب	→	رياح	○
سهول	←	رياح	○
النهار	☀	مشتمن	☀
	H	خط مرتفع	—

- السكن الرفيع
- السكن العصري
- المدينة القديمة
- السكن المتوسط
- السكن الاقتصادي و الاجتماعي
- السكن العشوائي
- السكن الغير صحي
- دوار حضري
- الاحياء الادارية او السياحية



النشاط الثاني علل :
استخدام مفتاح للخريطة ؟

.....
.....
.....





#عام التسامح - 2019



الاسم : الصف: الثالث () التاريخ : / / 2019



الهدف العام : عناصر الخريطة ؟

السؤال : عزيز النجيب اكتب تحت الصورة العنصر الذي يمثلها من عناصر الخريطة ؟
مفتاح الخريطة - الاطار - العنوان - مقياس الرسم - الرموز - مابين الاتجاهات - النظام الشبكي




الرمز	الرمز	الرمز	الرمز	الرمز	الرمز
جبال	L	خط نفوس	▲	جديد	▲
هضاب	→	رياح	○	فوسفات	○
سهول	←	رياح	→	خط انابيب	→
النهار	☀	مشمس	☀	خط مرزق	☀
	H	خط مرزق	☀		

- السكن الرفيع
- السكن العصري
- المدينة القديمة
- السكن المتوسط
- السكن الاقتصادي و الاجتماعي
- السكن العشوائي
- السكن الغير صحي
- دوار حضري
- الاحياء الادارية او السياحية



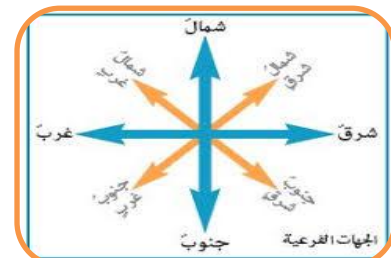
عنوان الخارطة

هو الاسم الذي يحدد موضوع الخارطة والمكان الذي تمثله



النشاط الثاني علل :
استخدام مفتاح للخريطة ؟

.....
.....
.....





#عام التسامح - 2019

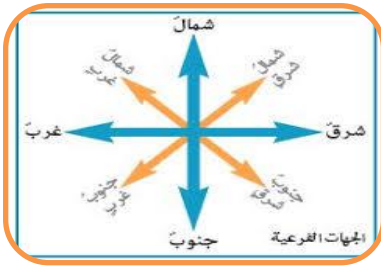


الاسم : الصف: الثالث () التاريخ : / / 2019 /



الهدف العام : عناصر الخريطة ؟

السؤال : عزيز النجيب صل بين الصورة ومعناها




المفتاح

العنوان

مبن الاتجاهات



الرمز	الرمز	الرمز	الرمز
جبل	خط سفلى	رياح	رياح
هضاب	رياح	رياح	رياح
سهول	شمس	شمس	شمس
نهار	خط مرتفع	خط مرتفع	خط مرتفع



الرموز

الاطار

مقياس الرسم





#عام التسامح - 2019


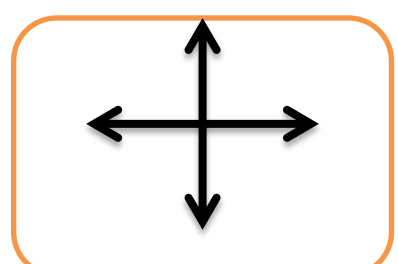


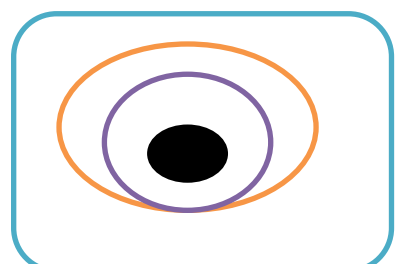



الاسم : الصف: الثالث () التاريخ : / / 2019



الهدف العام : خريطة وطني ؟

السؤال : فسر معنى الرموز التالية ؟





#عام التسامح - 2019




الاسم : الصف: الثالث () التاريخ : / / 2019

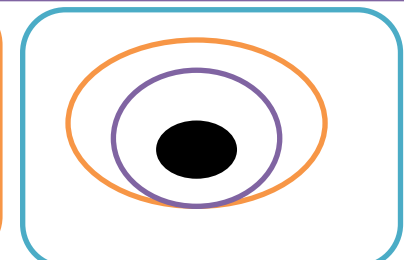



الهدف العام : خريطة وطني ؟

السؤال : فسر معنى الرموز التالية ؟ (الاطار - عاصمة - امارة - الاتجاهات - الحدود - عمان - السعودية - الخليج العربي)

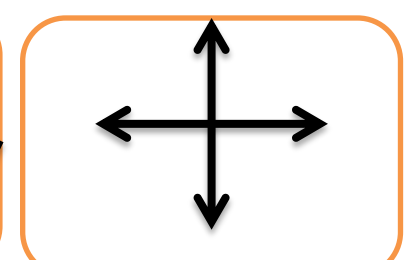




















#عام التسامح - 2019




الاسم : الصف: الثالث () التاريخ : / / 2019



الهدف العام : خريطة وطني ؟

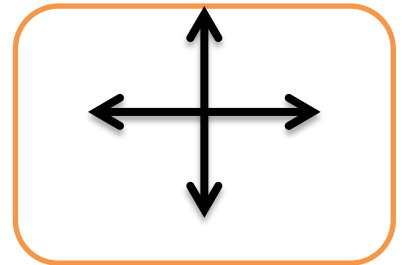
السؤال : فسر معنى الرموز التالية ؟ (الاطار - عاصمة - امارة - الاتجاهات - الحدود - عمان - السعودية - الخليج العربي)



الخليج العربي

عاصمة

حدود



السعودية

الاتجاهات

عمان

