




























..... : الاسم :

..... : الصف :

الفصل الدراسي الثاني 2020 - 2021

ورقة عمل مادة الرياضيات - الصف الأول

أوجد ناتج الجمع في كل مما يلي:

$\begin{array}{r} 12 \\ + 40 \\ \hline \end{array}$	$\begin{array}{r} 19 \\ + 20 \\ \hline \end{array}$	$\begin{array}{r} 78 \\ + 20 \\ \hline \end{array}$																		
$\begin{array}{r} 70 \\ + 13 \\ \hline \end{array}$	$\begin{array}{r} 53 \\ + 10 \\ \hline \end{array}$	$\begin{array}{r} 85 \\ + 10 \\ \hline \end{array}$																		
$\begin{array}{r} 64 \\ + 20 \\ \hline \end{array}$	$\begin{array}{r} 33 \\ + 40 \\ \hline \end{array}$	$\begin{array}{r} 29 \\ + 30 \\ \hline \end{array}$																		
<table border="1" style="width: 100%; border-collapse: collapse;"> <thead> <tr> <th style="width: 50%;">العشرات</th> <th style="width: 50%;">الآحاد</th> </tr> </thead> <tbody> <tr> <td style="text-align: center;"></td> <td style="text-align: center;"></td> </tr> <tr> <td></td> <td style="text-align: center;"></td> </tr> </tbody> </table>	العشرات	الآحاد					<table border="1" style="width: 100%; border-collapse: collapse;"> <thead> <tr> <th style="width: 50%;">العشرات</th> <th style="width: 50%;">الآحاد</th> </tr> </thead> <tbody> <tr> <td style="text-align: center;"></td> <td style="text-align: center;"></td> </tr> <tr> <td></td> <td style="text-align: center;"></td> </tr> </tbody> </table>	العشرات	الآحاد					<table border="1" style="width: 100%; border-collapse: collapse;"> <thead> <tr> <th style="width: 50%;">العشرات</th> <th style="width: 50%;">الآحاد</th> </tr> </thead> <tbody> <tr> <td style="text-align: center;"></td> <td style="text-align: center;"></td> </tr> <tr> <td></td> <td style="text-align: center;"></td> </tr> </tbody> </table>	العشرات	الآحاد				
العشرات	الآحاد																			
																				
																				
العشرات	الآحاد																			
																				
																				
العشرات	الآحاد																			
																				
																				
$17 + 5 = \dots$	$18 + 6 = \dots$	$19 + 2 = \dots$																		