

شكراً لتحميلك هذا الملف من موقع المناهج العمانية



اختبار تشخيصي

[موقع المناهج](#) ← [المناهج العمانية](#) ← [الصف الأول](#) ← [رياضيات](#) ← [الفصل الأول](#) ← [الملف](#)

تاريخ نشر الملف على موقع المناهج: 2023-10-29 06:56:32

التواصل الاجتماعي بحسب الصف الأول



روابط مواد الصف الأول على تلغرام

[الرياضيات](#)

[اللغة الانجليزية](#)

[اللغة العربية](#)

[التربية الاسلامية](#)

المزيد من الملفات بحسب الصف الأول والمادة رياضيات في الفصل الأول

[اختبار تحديد المستوى الأكاديمي](#)

1

[تدريبات على الأعداد من 1 إلى 10](#)

2

[مذكرة متكاملة من سلسلة تعلم وامرح](#)

3

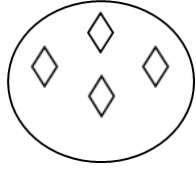


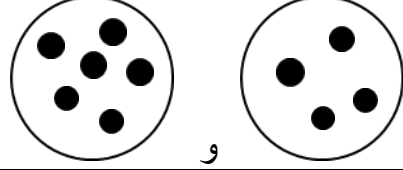
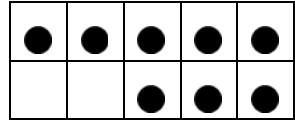
[ملزمة شاملة خاصة بالنظام الجديد](#)

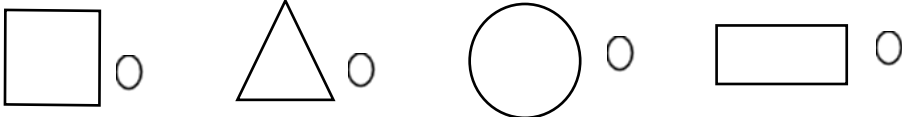

4

[ملخص الأشكال الهندسية](#)

5

اختبار تشخيصي للصف الأول لمادة الرياضيات

الدرجة	السؤال	م
درجة	<p>- عدد الأشكال هو:</p>  <p>ظلل يمين الإجابة الصحيحة:</p> <p>١٠ ٢ ٣٠ ٤٠</p>	١
درجة	<p>- اقرأ العدد في المربع ثم ارسم مدلوله داخل الدائرة:</p>  	٢
درجة	<p>=</p>  <p>و</p>	٣
درجة	<p>الإطار العشري التالي</p>  <p>أخذت منه اثنان فإن المتبقي هو</p>	٤
درجة	<p>- يقول احمد ان ضعف العدد ٢ هو ٣</p> <p>هل اجابته صح <input type="radio"/> خطأ <input type="radio"/></p>	٥
درجة	<p>- أكتب أزواج العدد ٣:</p>	٦

الدرجة	السؤال	م							
درجتان	- أكمل الأعداد الناقصة: <table border="1" style="width: 100%; text-align: center;"> <tr> <td style="width: 15%;"></td> <td style="width: 15%;"></td> <td style="width: 15%;"></td> <td style="width: 15%;">١٤</td> <td style="width: 15%;">١٣</td> <td style="width: 15%;"></td> <td style="width: 15%;">١١</td> </tr> </table>				١٤	١٣		١١	٧
			١٤	١٣		١١			
درجة	- الشكل الذي يمثل مستطيل هو: ظلل يمين الإجابة الصحيحة: 	٨							
درجة	ارسم الأشكال المفقودة في النمط: 	٩							

انتهت الأسئلة

