

السلام عليكم
ورحمة الله وبركاته





اليوم:

الاربعاء (2020-11-22)

5

الحصه

1

4

2

3



قوانين الصف الافتراضي

2

استمع إلى المُعلِّمة
بتركيز



5

أغلق المايك والكاميرا



3



أفكر وأجيب بمُفردِي

1

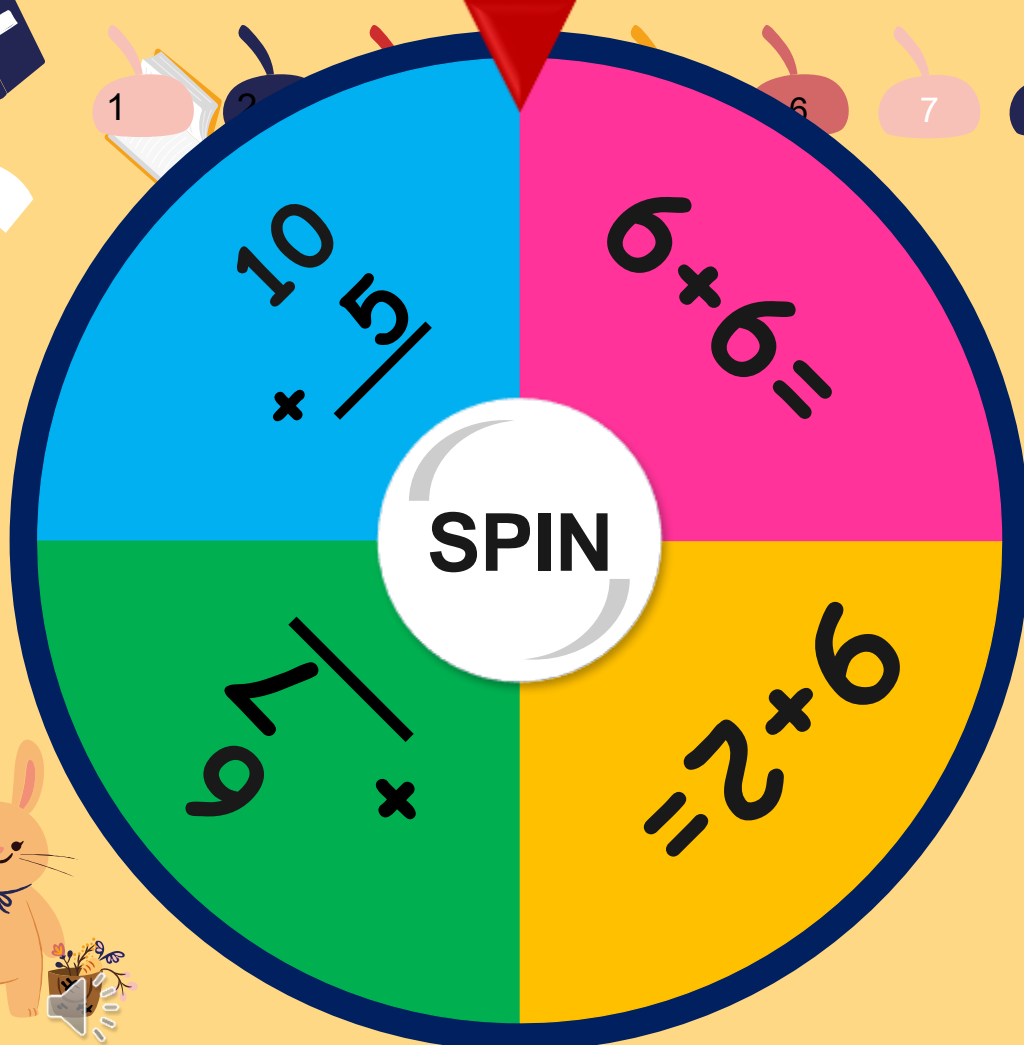
الجلوس في مكان
هادئ

4

احضر أدواتي المدرسية



التقويم القبلي
استراتيجية العجلة الدوارة



Date

A

B

C

D

E

F



+





المراجعة الذاتية

عنوان الدرس:

مراجعة مفاهيم استراتيجيات الجمع وحل

ناتج التعلم:

المسائل



تقييم قبلي

تحدي الـ
Quizizz

<https://quizizz.com/admin/quiz/5fb46b72f95166001d106868/%D8%A7%D8%B3%D8%AA%D8%B1%D8%A7%D8%AA%D9%8A%D8%AC%D9%8A%D8%A7%D8%AA-%D8%A7%D9%84%D8%AC%D9%85%D8%B9?from=creation>

1

2

3

4

5

6

7

8

9

10

11

12

1

$$3+3=$$

6

2

$$10+3=$$

13

3

$$4 + 3 =$$

7

4

$$8+8=$$

16

5

$$9 + 4 =$$

13

6

$$5+7=$$

12

اوجد ناتج الجمع؟



A

B

C


D


E

F



لديك رسالة





+


+

+

+



مع فاطمة 7 فلوس
ثم حصلت على 3 فلوس اضافية
. فما مجموع الفلوس اجمالاً؟



ماهي جملة الجمع المرتبطة

$$4+5=9$$

$$3+6=9$$

$$5+4=9$$

$$1+8=9$$




أي من الجمل العددية من المضاعفات؟

$$7 + 5 = 12$$

$$9 + 4 = 13$$


$$5 + 5 = 10$$





کون 10 ؟

$$4 + 3 + 3 = \underline{\quad}$$



+

+




+



+





يوجد في البركة 8 سمكات حمراء اللون
و4 سمكات صفراء اللون .
فكم عدد الاسماك اجمالا؟

$$\underline{8} + \underline{4} = \underline{12}$$



عد مجموعة الفلوس ثم واصل العد التصاعدي للجمع



5 فلوس

عد تصاعديا



6



7



8

8 فلوس



الإمارات العربية المتحدة
وزارة التربية والتعليم



2020-2021

الرياضيات

نسخة الإمارات العربية المتحدة



الصف
1

Mc
Graw
Hill

نفتح الكتاب

الوحدة 3

المراجعة الذاتية للوحدة

صفحة

267



اجمع.

1. $4 + 4 =$ _____

2. $2 + 1 =$ _____

3. $1 + 1 =$ _____

4. $1 + 8 =$ _____

5. $1 + 0 =$ _____

6. $4 + 2 =$ _____

7. $6 + 3 =$ _____

8. $2 + 7 =$ _____

9. $3 + 2 =$ _____

10. $2 + 5 =$ _____

11. $6 + 1 =$ _____

12. $5 + 4 =$ _____

13.
$$\begin{array}{r} 7 \\ + 3 \\ \hline \end{array}$$

14.
$$\begin{array}{r} 3 \\ + 3 \\ \hline \end{array}$$

15.
$$\begin{array}{r} 2 \\ + 2 \\ \hline \end{array}$$

16.
$$\begin{array}{r} 6 \\ + 4 \\ \hline \end{array}$$

17.
$$\begin{array}{r} 0 \\ + 9 \\ \hline \end{array}$$

18.
$$\begin{array}{r} 0 \\ + 5 \\ \hline \end{array}$$

19.
$$\begin{array}{r} 7 \\ + 1 \\ \hline \end{array}$$

20.
$$\begin{array}{r} 1 \\ + 3 \\ \hline \end{array}$$

21.
$$\begin{array}{r} 0 \\ + 0 \\ \hline \end{array}$$

صفحة

267



K

F

6+3=9



6-3=3



6+2=8



5+3=8



Q



Z

O

مع عبدالله 8 فلوس ومع سالم 6 فلوس . فكم عدد الفلوس
اجمالا؟ 14 فلوس

3



8



11



14



Z

O

B

أجمع المضاعفات

$$\textcircled{3} + \textcircled{3} + 5 = 11$$

6



كون عشرة لتجمع

$$7 + 4 + 3 = 14$$

10



+



+





استخدم خط الاعداد لتساعدك في عملية الجمع:



$$5 + 2 = 7$$

$$\begin{array}{r} 8 \\ + 4 \\ \hline 12 \end{array}$$


$$\begin{array}{r} 7 \\ + 2 \\ \hline 9 \end{array}$$

$$\begin{array}{r} 8 \\ + 3 \\ \hline 11 \end{array}$$


$$3 + 3 = 6$$



اكتب الحدود الجمعية:




$$\underline{4} + \underline{3} = \underline{7}$$




$$\underline{3} + \underline{4} = \underline{7}$$

اكتب الحدود الجمعية:



$$\underline{4} + \underline{5} = \underline{9}$$

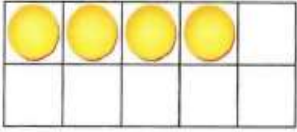



$$\underline{5} + \underline{4} = \underline{9}$$



كُون عَشْرَةَ لِلجَمْع.

9.



$$\begin{array}{r} 8 \\ + 4 \\ \hline \square \end{array} \rightarrow + \begin{array}{r} 10 \\ \square \\ \hline \square \end{array}$$

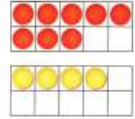
10.

$$\begin{array}{r} 9 \\ + 9 \\ \hline \square \end{array} \rightarrow + \begin{array}{r} 10 \\ \square \\ \hline \square \end{array}$$

II.

$$\begin{array}{r} 8 \\ + 3 \\ \hline \square \end{array} \rightarrow + \begin{array}{r} 10 \\ \square \\ \hline \square \end{array}$$

9.



$$\begin{array}{r} 8 \\ + 4 \\ \hline \square \end{array} \rightarrow + \begin{array}{r} 10 \\ \square \\ \hline \square \end{array}$$

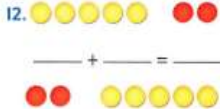
10.

$$\begin{array}{r} 9 \\ + 9 \\ \hline \square \end{array} \rightarrow + \begin{array}{r} 10 \\ \square \\ \hline \square \end{array}$$

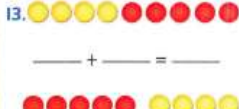
II.

$$\begin{array}{r} 8 \\ + 3 \\ \hline \square \end{array} \rightarrow + \begin{array}{r} 10 \\ \square \\ \hline \square \end{array}$$

اكتب الحدود الجمعية. اجمع.



$$\square + \square = \square$$



$$\square + \square = \square$$

اجمع المضاعفات أو كُون لإيجاد المجموع.

$$7 + 9 = \square$$

صفحة


270



اكتب الحدود الجمعية. اجمع.

12.  

_____ + _____ = _____

_____ + _____ = _____

13.  

_____ + _____ = _____

_____ + _____ = _____

اجمع المضاعفات أو كوّن عشرة. اكتب ذلك العدد. واجمع العدد الآخر
صفحة جاد المجموع.

14. $\textcircled{3} + \textcircled{3} + 5 = \underline{\hspace{2cm}}$

15. $\textcircled{1} + 7 + \textcircled{9} = \underline{\hspace{2cm}}$

صفحة

270

حل المسائل



16. شربت منال كوبين من اللبن. وشربت هناء 3 أكواب من اللبن. ما مجموع الأكواب التي شربتها معًا؟

أكواف _____

17. أخذت ياسمين 7 كتب من المكتبة. وأخذت سهيلة 4 كتب زيادة عن ما أخذته ياسمين. كم كتابًا تمتلك سهيلة؟

كتابًا _____

صفحة

271

تمرين على الاختبار

18. 4 بطات تسير في الحديقة. و 4 بطات تسبح في النهر. ما مجموع البطات الموجودة؟

4



6



8



10



صفحة

271



السؤال الأساسي
كيف أستخدم
الاستراتيجيات لجمع
الأعداد؟

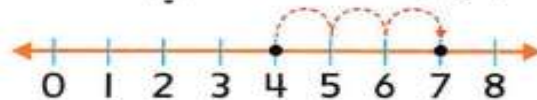
حقائق المضاعفات وشبه
المضاعفات

$$6 + 6 = \underline{\quad}$$

$$6 + 7 = \underline{\quad}$$

$$6 + 5 = \underline{\quad}$$

الجمع بالعد التصاعدي



$$4 + 3 = \underline{\quad}$$

جمع ثلاثة أعداد

$$8 + 4 + 2 = \underline{\quad}$$



$$8 + 1 =$$

$$1 + 8 =$$

صفحة

272

بطاقة خروج

بطاقة خروج

اكتب جمل جمع عديدة من عندك
من أي درس من دروس الوحدة
الثالثة



مع السلامة
وشكرا لحسن
استماعكم

