




الاختبار الأول من الفصل الدراسي الأول لمادة الرياضيات للصف الأول الأساسي

20

احرصي على الدرجة الكاملة يا صديقتي


السؤال الأول :

أولاً : عدي واكتبي رمز العدد .




4


--



--




--




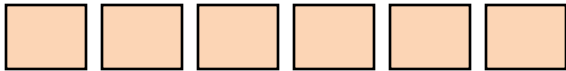
--

ثانياً: عدي العناصر و لوني مربع لكل عنصر.



ثالثاً : مثلها بنفسك . عدي كل شكل
واكتبي العدد .

3



2

السؤال الثاني :

أولاً : لوني الطائر الأول القريب من الشجرة باللون الأحمر وضعي دائرة حول الطائر الخامس ورمز (X) على الطائر الثالث ولوني الطائر التاسع باللون الأخضر .

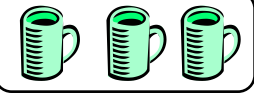


3

ثانياً : صلي المجموعة بالرمز المناسب .



3



5



4

2

ثالثاً : ظللي دائرة تحت الكلمة التي تطابق العدد .

واحد



خمسة



أربعة



ثلاثة



5

رابعاً : طابقي العناصر واكتبي العدد ثم ضعي دائرة حول العدد الأكبر وخط أسفل الأصغر .

4

