

# الاختبار التقويهي الثالث

## للمصف الأول

الفصل الدراسي الأول 2023 / 2024

بنود الاختبار	توزيع درجات الاختبار		درجة الاختبار	مدة الاختبار	موعد الاختبار
(١-٤)	مقال	موضوعي	٥ درجات	لا تتجاوز ١٥ دقيقة من زمن الاختبار	الأسبوع ٩
(٢-٤)					
(٣-٤)	٣	٢			
(٤-٤)					
(٥-٤)					

إشراف الوجيه الفني : أ.هما العنزي

اختبر نفسك



اضغط

السؤال الأول :

استخدم خط الأعداد



ب) اجمع

$$\boxed{\phantom{00}} = 2 + 9$$

أ) اطرح



$$\boxed{\phantom{00}} = 1 - 4$$

السؤال الثاني :

صل بالعبرة المناسبة

$$7 = 1 - 8$$

$$8 = 2 + 6$$




انتهت الأسئلة ،،،

السؤال الأول :

أ أكمل

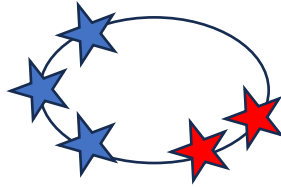
ب



يكونان  و

يكونان  و

السؤال الثاني : حوّل الإجابة الصحيحة



عبارة الجمع المناسبة هي

$$٥ = ٢ + ٣$$

$$٨ = ٢ + ٦$$

$$٥ = ١ + ٤$$



٢

٤

٣

عدد العصافير المتبقية

انتهت الأسئلة ، ، ، ،

السؤال الأول :

استخدم خط الأعداد



اجمع (ب)

$$11 = 2 + 9$$

اطرح (أ)



$$3 = 1 - 4$$

السؤال الثاني :

صل بالعبرة المناسبة

$$7 = 1 - 8$$

$$8 = 2 + 6$$



انتهت الأسئلة ،،،


السؤال الأول :

أ أكمل



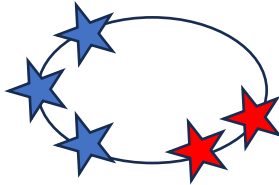
٣ و ١ يكونان ٤

ب



٥ و ٢ يكونان ٧

السؤال الثاني : حوّل الإجابة الصحيحة



عبارة الجمع المناسبة هي

$5 = 2 + 3$

$8 = 2 + 6$

$5 = 1 + 4$

عدد العصافير المتبقية



٢

٤

٣

انتهت الأسئلة ، ، ، ،