

الاختبار التكويني الأول في مادة الرياضيات
للفصل الدراسي الأول
2023 - 2024 م

اسم الطالب/ة الصف الأول

10

السؤال الأول : حوّل الإجابة الصحيحة



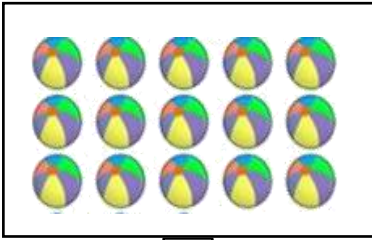
1- عدد التفاحات هو

A 7

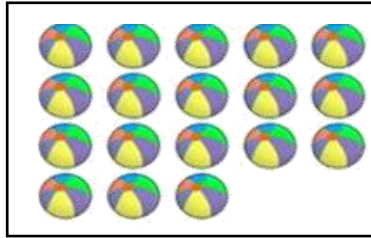
B 4

C 5

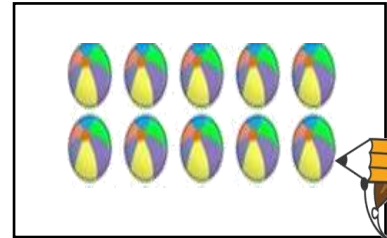
2- اختر المجموعة التي تحتوي على العدد 15



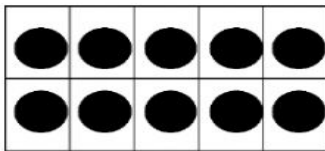
A



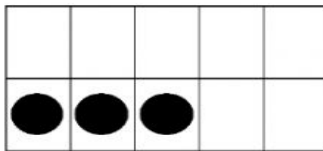
B



C



A 3



B 13

3- عدد النقاط في لوحة العشرات تساوي

C 18



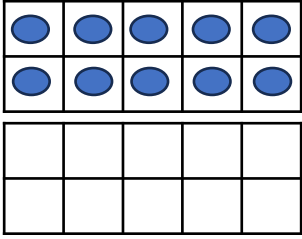
4- عدد بين 7 و 9 هو

A 6

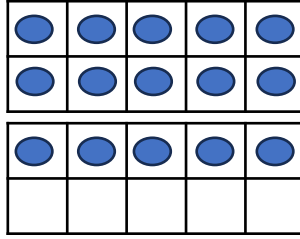
B 8

C 10

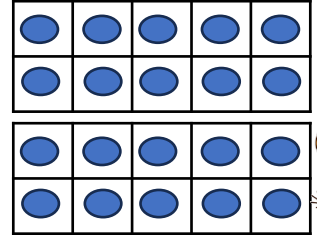
5 - لوحة العشرات التي تحتوي على العدد 20 هي



A



B





C



6

السؤال الثاني عد واكتب العدد الصحيح ..







4

السؤال الثالث : اكمل كتابة الاعداد ..



1	2		4	
---	---	--	---	--

10		12	13		
----	--	----	----	--	--

15		17			20
----	--	----	--	--	----

