

الصف: الأول الأساسي

المادة: رياضيات

الدرس: مسائل متنوعة علي الطرح

التاريخ: 5 / 11 / 2017

إعداد المعلمة: JANA RABEA



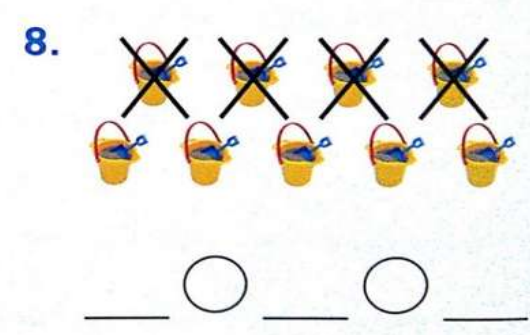


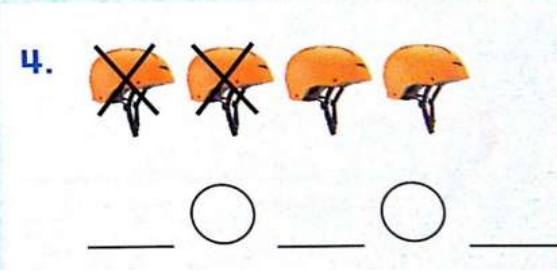
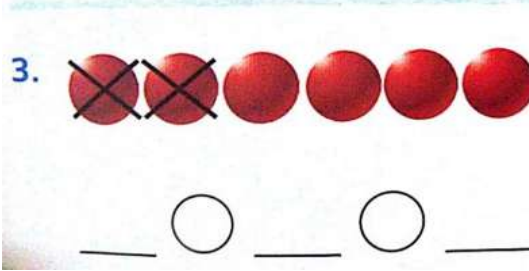
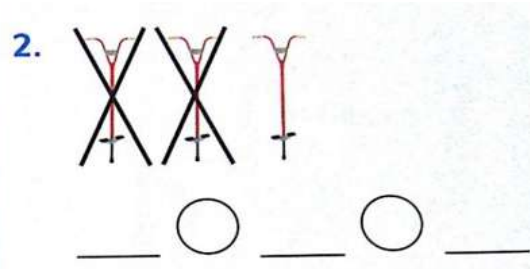
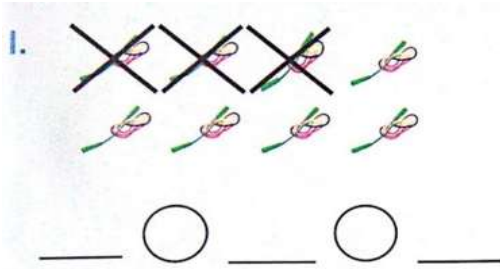
مراجعته علي عمليه الطرح



وزارة التعليم والمعرفة
DEPARTMENT OF EDUCATION
AND KNOWLEDGE

دائرة التعليم و المعرفة
مدرسة الرؤية الخاصة
الفصل الدراسي الأول

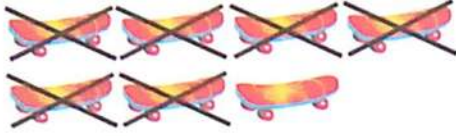
مؤشرات الأداء : ان يكتب التلميذ جمل طرح عدديه صحيحه - ان يحل التلميذ مسائل لفظيه علي الطرح



المعلمة: JANA RABEA

مدرسه الرؤية الخاصه

9.



___ ○ ___ ○ ___

10.



___ ○ ___ ○ ___

11.



___ ○ ___ ○ ___

12.

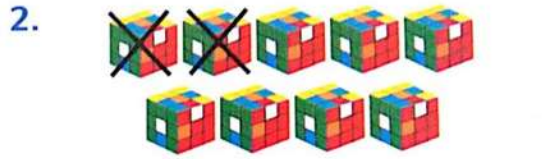


___ ○ ___ ○ ___


اكتب جملة طرح عددية.



___ ○ ___ ○ ___



___ ○ ___ ○ ___



___ ○ ___ ○ ___



___ ○ ___ ○ ___



___ ○ ___ ○ ___



___ ○ ___ ○ ___



© Floc Lablennec - www.Glad9.com/440777

اطرح.



$$5 - 5 = \underline{\quad}$$



$$8 - 0 = \underline{\quad}$$




$$1 - 0 = \underline{\quad}$$



$$3 - 3 = \underline{\quad}$$



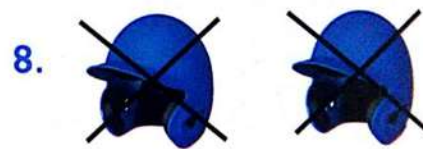
$$3 - 0 = \underline{\quad}$$



$$9 - 9 = \underline{\quad}$$



$$7 - 0 = \underline{\quad}$$



$$2 - 2 = \underline{\quad}$$

9. $8 - 0 = \underline{\hspace{2cm}}$

10. $3 - 3 = \underline{\hspace{2cm}}$

11. $6 - 6 = \underline{\hspace{2cm}}$

12. $4 - 0 = \underline{\hspace{2cm}}$


13. $7 - 7 = \underline{\hspace{2cm}}$

14. $1 - 1 = \underline{\hspace{2cm}}$

15. $9 - 0 = \underline{\hspace{2cm}}$


16. $5 - 0 = \underline{\hspace{2cm}}$

1.



$5 - 0 = \underline{\hspace{2cm}}$

2.




$6 - 6 = \underline{\hspace{2cm}}$

3.



$3 - 3 = \underline{\hspace{2cm}}$

4.



$7 - 0 = \underline{\hspace{2cm}}$

المعلمة: JANA RABEA


مدرسه الرؤيه الخاصه

مسائل لفظيه على الطرح

- تقف 8 بيغاوات على فرع شجرة .
- طار 0 من البيغاوات بعيدًا.
- فكم عدد البيغاوات المتبقية على الفرع؟
بيغاء.....

هناك 9 سحالي على ورقة.
زحف 9 منهم بعيدًا. فكم عدد السحالي
المتبقية على الورقة؟

- 0 5 9 18
-



اكتب مقدار الزيادة والنقصان



1. هناك 4 ثعابين. هناك قردا شمبانزي.
فكم تقل قرود الشمبانزي عن الثعابين؟

قرود شمبانزي أقل _____ = _____ - _____

2. أكلت سمية 3 ثمرات موز. أكل خالد موزتين. فكم
تقل ثمرات الموز التي أكلها خالد عن التي أكلتها
سمية؟

ثمرات الموز أقل _____ = _____ - _____

3. هناك 5 ضفادع في بركة و3 ضفادع على الأرض.
فكم تزيد الضفادع التي في البركة عن تلك التي
على الأرض؟


ضفادع أكثر _____ = _____ - _____

4. ذهب عمرو لصيد السمك. اصطاد 7 سمكات في
الصباح و6 سمكات بعد الظهر. فكم تقل الأسماك
التي اصطادها عمرو بعد الظهر عن تلك التي
اصطادها في الصباح؟

سمكة أقل _____ = _____ - _____




1.



$$6 - 1 = \underline{\quad}$$


اطرح.

2.




$$5 - 1 = \underline{\quad}$$

3.




$$9 - 3 = \underline{\quad}$$

4.




$$8 - 3 = \underline{\quad}$$

5.



$$\begin{array}{r} 9 \\ - 2 \\ \hline \square \end{array}$$

6.



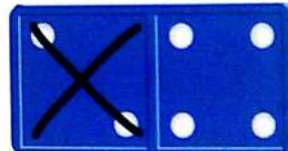
$$8 - 2 = \underline{\quad}$$

7.




$$\begin{array}{r} 4 \\ - 2 \\ \hline \square \end{array}$$

8.




$$6 - 2 = \underline{\quad}$$

9.



$$7 - 2 = \underline{\quad}$$

10.



$$\begin{array}{r} 8 \\ - 3 \\ \hline \square \end{array}$$

11. $5 - 4 = \underline{\quad}$

12. $8 - 5 = \underline{\quad}$

13.

$$\begin{array}{r} 9 \\ - 1 \\ \hline \square \end{array}$$

14.

$$\begin{array}{r} 6 \\ - 6 \\ \hline \square \end{array}$$



اطرح.

1.



$$6 - 2 = \underline{\quad}$$

2.




$$\begin{array}{r} 8 \\ - 6 \\ \hline \square \end{array}$$

3.



$$\begin{array}{r} 4 \\ - 2 \\ \hline \square \end{array}$$

4.



$$9 - 4 = \underline{\quad}$$

